



Dans l'aquarium, il y a 7 poissons bleus et 4 poissons rouges.

Combien y a-t-il de poissons dans l'aquarium?


7



4




Il y a **11** poissons dans l'aquarium.




Dans l'aquarium, il y a 3 poissons bleus et 9 poissons rouges.

Combien y a-t-il de poissons dans l'aquarium?


3



9




Il y a **12** poissons dans l'aquarium.




Dans l'aquarium, il y a 2 poissons bleus et 5 poissons rouges.

Combien y a-t-il de poissons dans l'aquarium?


2



5




Il y a **7** poissons dans l'aquarium.




Dans l'aquarium, il y a 8 poissons bleus et 1 poisson rouge.

Combien y a-t-il de poissons dans l'aquarium?


8



1




Il y a **9** poissons dans l'aquarium.




Dans l'aquarium, il y a 4 poissons bleus et 2 poissons rouges.

Combien y a-t-il de poissons dans l'aquarium?


4



2



Il y a **6** poissons dans l'aquarium.




Dans l'aquarium, il y a 1 poisson bleu et 3 poissons rouges.

Combien y a-t-il de poissons dans l'aquarium?


1



3




Il y a **4** poissons dans l'aquarium.




Dans l'aquarium, il y a 9 poissons bleus et 7 poissons rouges.

Combien y a-t-il de poissons dans l'aquarium?


9



7




Il y a **16** poissons dans l'aquarium.




Dans l'aquarium, il y a 5 poissons bleus et 8 poissons rouges.

Combien y a-t-il de poissons dans l'aquarium?

5



8



Il y a **13** poissons dans l'aquarium.