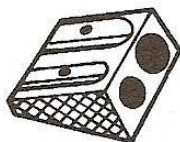


Nombres et quantités: de 0 à 199




1 Ecris les nombres manquants:

183	186
-----	------	------	-----




....	126
------	------	------	-----



....	
....	
189	192

117
-----	------	------	------



155
-----	------	------	------

....	165
------	------	------	-----

....	
....	
....	
149
....
....	159

....
....
....
....

2 Colorie les nombres identiques :

cent - quatre - vingt - quatre

123

$100 + 80 + 4$

$100 + 20 + 3$

$100 + 9$

109

$100 + 40 + 9$

cent - neuf

cent - quarante - neuf

184

149

cent - vingt - trois

3 Complète :

182	$100 + 80 + 2$
146	
187	
141	

	$100 + 40 + 5$
	$100 + 90 + 3$
	$100 + 50 + 7$
	$100 + 10 + 9$

Prénom : _____

Date: _____

Nombres et quantités : de 0 à 199



1 Complète le tableau:

nombre avant	nombre	nombre après
	145	
108		
		161
197		

2 Complète avec <, > ou =:

3  15

165 195

110 101

119 91

90 109

167 176

98 185

141 114

111 88

3 Relie les nombres à leur place sur la droite graduée

99

112

108

134

127

100


110

120

130

140

4 Complète la bande numérique:



Nombres et quantités : de 0 à 199



1 Relie les nombres identiques :

125

cent - quatre - vingt - cinq

124

cent - vingt - cinq

185

cent - quatre

104

cent - cinquante - cinq

155

cent - vingt - quatre

105

cent - cinq

150

cent - cinquante

2 Compte en groupant par 10, puis par 100:

100

100

Prénom : _____

Date: _____

Nombres et quantités : de 0 à 199



1 Encadre le nombre avec les nombres de ton choix:

..... 112

..... 148

..... 58

..... 125

..... 185

..... 176

..... 95

..... 122

..... 198

2 Ecris les nombres dans l'ordre croissant, du plus petit au plus grand:


181 - 94 - 173 - 89 - 97 - 167 - 184

--	--	--	--	--	--	--	--

3 Ecris les nombres en lettres:

109	
125	
138	
164	
198	
155	

4 Complète la bande numérique:



Prénom : _____

Date: _____

Nombres et quantités : de 0 à 199



1 Encadre le nombre entre deux dizaines qui se suivent:

..... 152

..... 188

..... 78

..... 165

..... 145

..... 166

..... 85

..... 112

..... 178

2 Colorie en bleu les unités, en rouge les dizaines et en vert les centaines

192

198

9

19

119

89

79

86

67

199


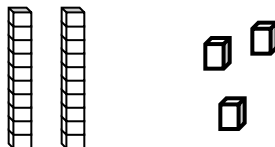
167

99

3 Ecris les nombres dans l'ordre croissant, du plus petit au plus grand:

105 - 195 - 140 - 98 - 79 - 164 - 150

4 Dessine :

123			154
105			160

Prénom : _____

Date: _____

Nombres et quantités : de 0 à 199

3  15

1 Complète avec $<$, $>$ ou $=$:

102 $100 + 20$

167 $100 + 70$

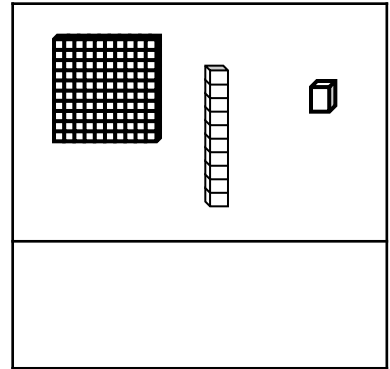
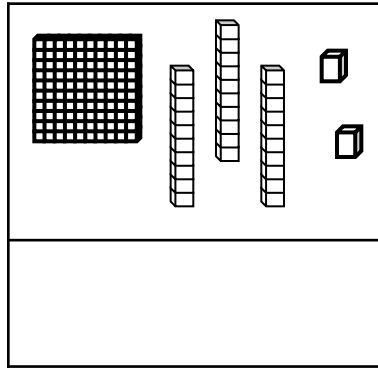
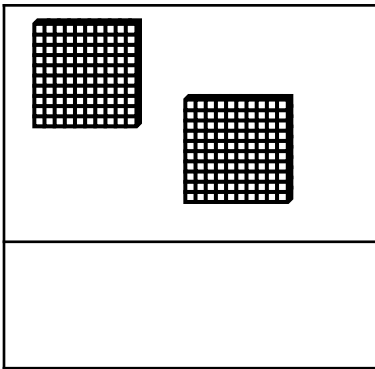
138 $100 + 30 + 8$

130 $100 + 30 + 1$

156 $100 + 60 + 5$

175 $100 + 100$


2 Compte et complète :



3 Ecris les nombres du plus grand au plus petit:

105 - 86 - 185 - 134 - 96 - 110 - 100

4 Complète :



Prénom : _____

Date: _____

Nombres et quantités : de 0 à 199

3  15

1 Complète avec <, > ou =:

152 cent - deux

177 cent - dix - sept

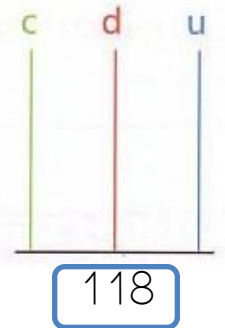

128 cent - dix - huit

103 cent - trois

136 cent - cinquante

165 cent - soixante


2 Complète les abaques :



3 Complète le tableau :

127	$100 + 20 + 7$	$1c + 2d + 7u$
165		
149		
182		
109		

4 Complète :




Nombres et quantités : de 0 à 199



1 Colorie la pile qui représente le plus petit nombre:

<table border="1"> <tr><td>100</td></tr> <tr><td>50</td></tr> <tr><td>6</td></tr> </table> <table border="1"> <tr><td>100</td></tr> <tr><td>60</td></tr> <tr><td>1</td></tr> </table>	100	50	6	100	60	1	<table border="1"> <tr><td>100</td></tr> <tr><td>10</td></tr> <tr><td>6</td></tr> </table> <table border="1"> <tr><td>100</td></tr> <tr><td>60</td></tr> <tr><td>5</td></tr> </table>	100	10	6	100	60	5	<table border="1"> <tr><td>100</td></tr> <tr><td>50</td></tr> <tr><td>2</td></tr> </table> <table border="1"> <tr><td>100</td></tr> <tr><td>50</td></tr> <tr><td>1</td></tr> </table>	100	50	2	100	50	1	<table border="1"> <tr><td>100</td></tr> <tr><td>20</td></tr> <tr><td>9</td></tr> </table> <table border="1"> <tr><td>100</td></tr> <tr><td>60</td></tr> <tr><td>9</td></tr> </table>	100	20	9	100	60	9
100																											
50																											
6																											
100																											
60																											
1																											
100																											
10																											
6																											
100																											
60																											
5																											
100																											
50																											
2																											
100																											
50																											
1																											
100																											
20																											
9																											
100																											
60																											
9																											
<table border="1"> <tr><td>100</td></tr> <tr><td>40</td></tr> <tr><td>8</td></tr> </table> <table border="1"> <tr><td>100</td></tr> <tr><td>60</td></tr> <tr><td>8</td></tr> </table>	100	40	8	100	60	8	<table border="1"> <tr><td>100</td></tr> <tr><td>80</td></tr> <tr><td>4</td></tr> </table> <table border="1"> <tr><td>100</td></tr> <tr><td>80</td></tr> <tr><td>6</td></tr> </table>	100	80	4	100	80	6	<table border="1"> <tr><td>100</td></tr> <tr><td>70</td></tr> <tr><td>2</td></tr> </table> <table border="1"> <tr><td>100</td></tr> <tr><td>20</td></tr> <tr><td>1</td></tr> </table>	100	70	2	100	20	1	<table border="1"> <tr><td>100</td></tr> <tr><td>50</td></tr> <tr><td>6</td></tr> </table> <table border="1"> <tr><td>100</td></tr> <tr><td>60</td></tr> <tr><td>5</td></tr> </table>	100	50	6	100	60	5
100																											
40																											
8																											
100																											
60																											
8																											
100																											
80																											
4																											
100																											
80																											
6																											
100																											
70																											
2																											
100																											
20																											
1																											
100																											
50																											
6																											
100																											
60																											
5																											

2 Entoure les pièces et billets qu'il faut choisir pour avoir 136€ :




Pour avoir 136€, il faut :

.....	billets de 100 €
.....	billets de 10 €
.....	pièces de 1 €

3 Relie les nombres à leur place sur la droite graduée :

(159)	(172)	(181)	(179)	(187)
150	160	170	180	190

4 Complète :



Prénom : _____

Date: _____


Nombres et quantités : de 0 à 199



1 Complète les compteurs :

135	148	171	103	157	111
136	149	172	104	158	112

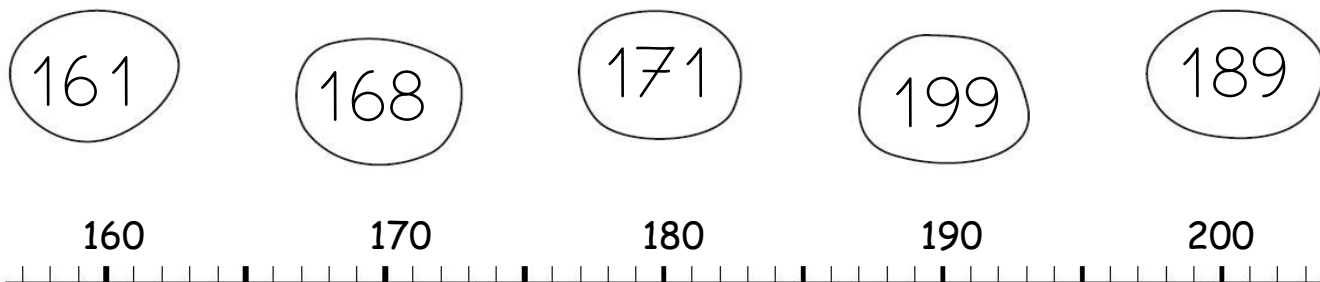
2 Entoure les pièces et billets qu'il faut choisir pour avoir 147€ :




Pour avoir 147€, il faut :

.....	billets de 100 €
.....	billets de 10 €
.....	pièces de 1 €

3 Relie les nombres à leur place sur la droite graduée :



4 Complète :



Prénom : _____

Date: _____

Nombres et quantités : de 0 à 199



1 Ecris en chiffres :

cent - cinquante - six :

cent - soixante - dix :

cent - cinquante - six :

cent - trois :


cent - quatre - vingt - dix :

cent - vingt - neuf :

cent - onze :

cent - quatre - vingt - deux :

2 Entoure les pièces et billets qu'il faut choisir pour avoir 106€ :



Pour avoir 106€, il faut :

.....	billets de 100 €
.....	billets de 10 €
.....	pièces de 1 €

3 Ecris les nombres à leur place dans les sacs :

199 - 177 - 187 - 174 - 168 - 163 - 183 - 193

