

Ich zähle 4

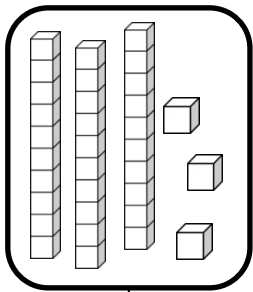
Zahlen von 0 bis 40

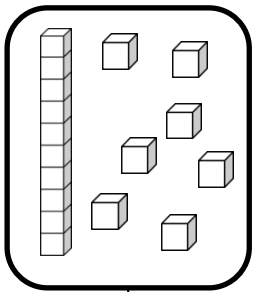


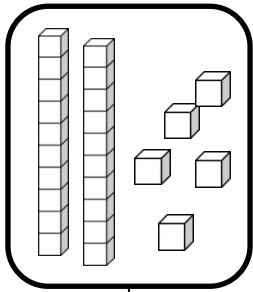
Zahlen und Mengen : von 0 bis 40

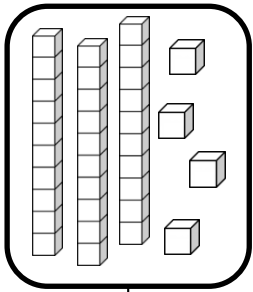


1 Ergänze










2 Ergänze die Zahlenfolge



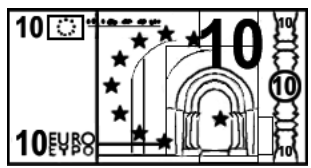


Zahlen und Mengen : von 0 bis 40

1 Ergänze die Tabelle

0	1	2		4	5	6	7		9
10		12	13	14	15	16	17	18	
	21	22	23	24			27	28	29
30	31		33		35	36		38	


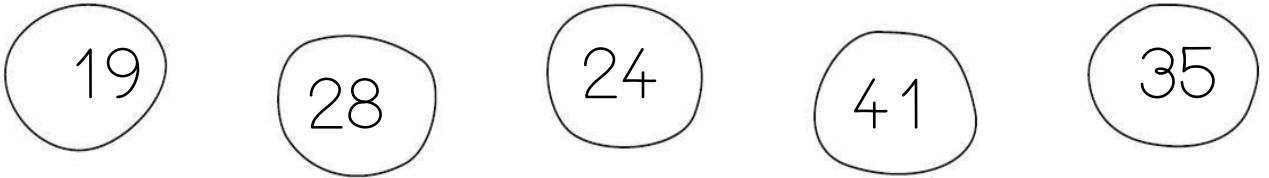
2 Wie viel Geld hat Arthur in seinem Sparschwein?



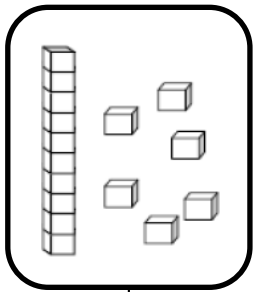
Zahlen und Mengen : von 0 bis 40




1 Verbinde jede Zahl mit der richtigen Stelle auf dem Zahlenstrahl




2 Zeichne




16



36



34

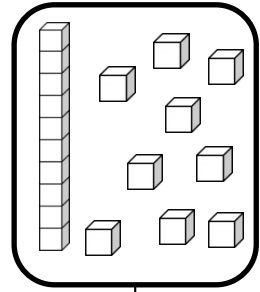
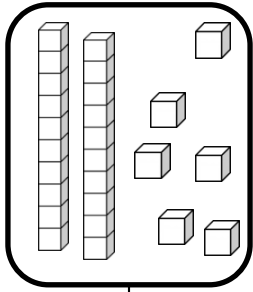
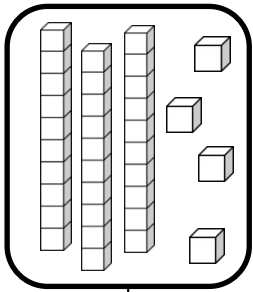
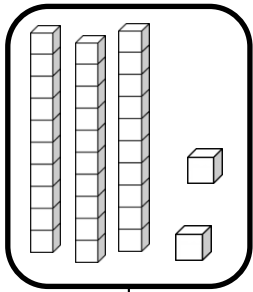


33


Zahlen und Mengen : von 0 bis 40



1 Ergänze



2 Ergänze die Zahlenfolge




Zahlen und Mengen : von 0 bis 40

1 Schreibe die Zahlen in Buchstaben. Schau die Etiketten an.

36	
28	
32	





- zwei
- sechs
- acht
- und
- zwanzig
- dreißig

2 Ergänze die Zahlenfolge



Zahlen und Mengen : von 0 bis 40

1 Mach Zehnerpakete und ergänze



Zahlen und Mengen : von 0 bis 40

drei

fünf

neun

und

zwanzig

dreißig

1 Schreibe die Zahlen in Buchstaben. Schau die Etiketten an.

35	
29	
33	

2 Schreibe die Zahlen nach der Größe und beginne mit der kleinsten Zahl

36 - 15 - 31

34 - 23 - 27

□ □ □


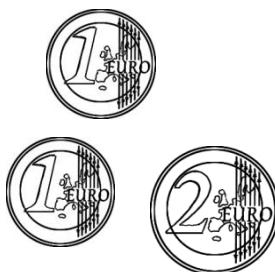

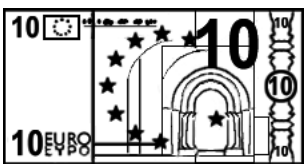
□ □ □

Zahlen und Mengen : von 0 bis 40

1 Ergänze die Tabelle

0	1		3	4	5	6	7	8	
	11			14	15	16	17	18	19
20	21	22			25	26	27		29
30		32	33	34				38	39

2 Wie viel Geld hat Arthur in seinem Sparschwein?



Zahlen und Mengen : von 0 bis 40



1 Verbinde jede Zahl mit der richtigen Stelle auf dem Zahlenstrahl

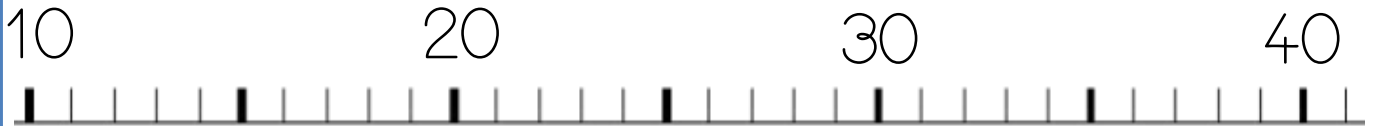
12

27


21

36

31



2 Ergänze die Zahlenfolge



Zahlen und Mengen : von 0 bis 40

1 Schreibe die Zahlen in Buchstaben. Schau die Etiketten an.

32	
17	
39	

- zwei
- sieb(en)
- neun
- zehn
- und
- drei*ß*ig

2 Ordne die Zahlen nach der Größe und beginne mit der kleinsten Zahl

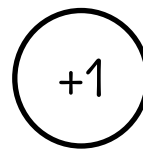

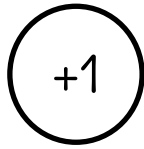

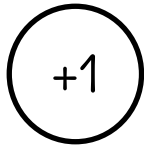
39 - 19 - 25 - 14 - 26

Five empty rounded square boxes for writing the numbers in order.

Zahlen und Mengen : von 0 bis 40

1 Der Frosch muss immer vorwärts. Malen seinen Weg an.

Wo kommt der Frosch an? Kreise das Kästchen ein.




0	1	2	3	4	5	6	7	8	9
10	11		13	14	15	16	17	18	19
20	21	22	23	24	25	26	27	28	29
30	31	32	33	34	35	36	37	38	39

Zahlen und Mengen : von 0 bis 40

1 Verbinde



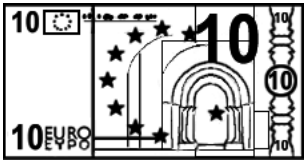


2 Ergänze die Zahlenfolge

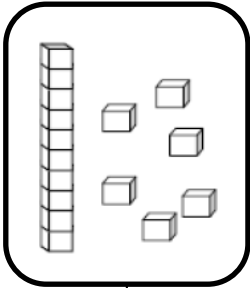


Zahlen und Mengen : von 0 bis 40


1 Wie viel Geld hat Arthur in seinem Sparschwein?




2 Zeichne




16



32



26



37

Zahlen und Mengen : von 0 bis 40



1 Male was gleich ist in derselben Farbe an

33

$30+7$

39

dreiunddreißig

$30+5$

siebenunddreißig

35

fünfunddreißig

$30+3$

$30+9$

31

$30+1$

37

neununddreißig

einunddreißig

Zahlen und Mengen : von 0 bis 40



1 Ordne die Zahlen nach der Größe und beginne mit der größten Zahl

23 - 32 - 27

24 - 34 - 13

Three empty rounded rectangular boxes for ordering the numbers from the first set.

Three empty rounded rectangular boxes for ordering the numbers from the second set.

2 Finde den Vorgänger und der Nachfolger

<input type="text"/>	39	<input type="text"/>
<input type="text"/>	32	<input type="text"/>
<input type="text"/>	26	<input type="text"/>


<input type="text"/>	35	<input type="text"/>
<input type="text"/>	24	<input type="text"/>
<input type="text"/>	17	<input type="text"/>

Zahlen und Mengen : von 0 bis 40

1 Der Frosch muss immer vorwärts. Malen seinen Weg an.
Wo kommt der Frosch an? Kreise das Kästchen ein.



Five circles containing the numbers: +1, +10, +10, +10, +1

0	1		3	4	5	6	7	8	9
10	11	12	13	14	15	16	17	18	19
20	21	22	23	24	25	26	27	28	29
30	31	32	33	34	35	36	37	38	39

Zahlen und Mengen : von 0 bis 40



1 Male was gleich ist in derselben Farbe an

34

$30+8$

vierunddreißig

achtunddreißig

zweiunddreißig

$30+4$

36

39

sechsenddreißig

$30+4$

$30+9$

32

38

$30+2$



$30+6$

neununddreißig

Zahlen und Mengen : von 0 bis 40



1 Mach Zehnerpakete und ergänze



Zahlen und Mengen : von 0 bis 40

3  15

1 Ergänze mit $<$, $>$ oder $=$:

22 28

31 13

36 23

29 20

27 35

39 30

2 Ordne die Zahlen nach der Größe und beginne mit der kleinsten Zahl

37 - 17 - 27

12 - 31 - 21

Zahlen und Mengen : von 0 bis 40



1 Finde den Vorgänger und den Nachfolger

— 38 —

— 34 —

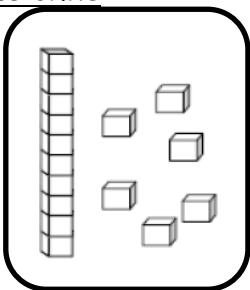
— 31 —

— 33 —

— 35 —

— 36 —

2 Zeichne



16

35

37

38

Zahlen und Mengen : von 0 bis 40



1 Verbinde jede Zahl mit der richtigen Stelle auf dem Zahlenstrahl

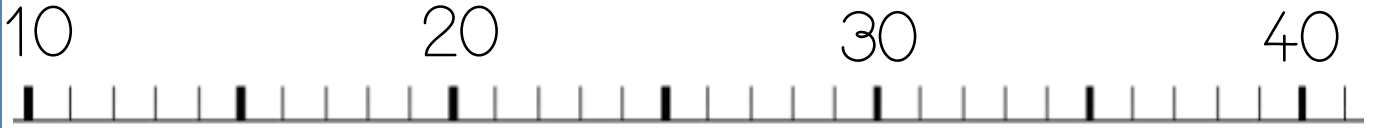
16

24

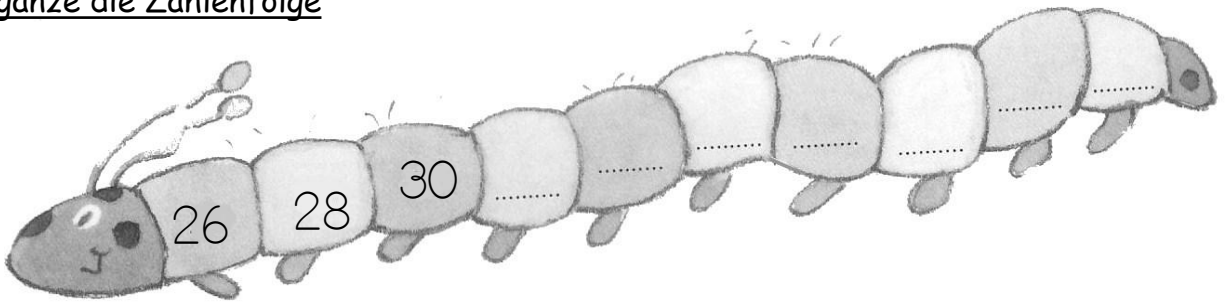
34

39

33



2 Ergänze die Zahlenfolge



Zahlen und Mengen : von 0 bis 40

3  15

1 Ergänze mit $<$, $>$ oder $=$

39 $30 + 8$

$30 + 3$ 39

36 $30 + 3$

$30 + 4$ 35

37 $30 + 5$

$30 + 7$ 36

2 Ordne die Zahlen nach der Größe und beginne mit der kleinsten Zahl

34 - 26 - 30 - 18 - 24

Five empty rounded square boxes for writing the numbers in order from smallest to largest.