

Ich zähle n°3

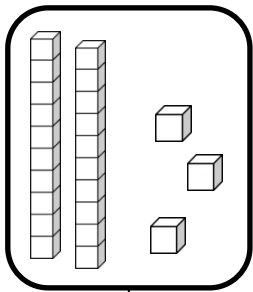
Zahlen von 0 bis 30

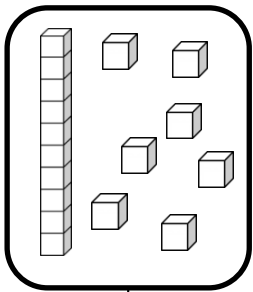


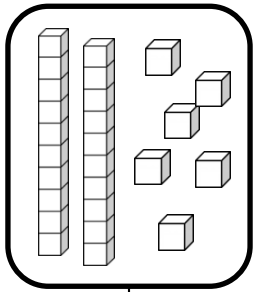
# Zahlen und Mengen : von 0 bis 30

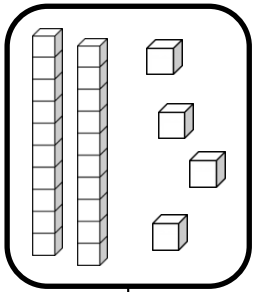


## 1 Ergänze











## 2 Ergänze die Zahlenfolge


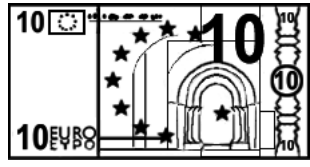
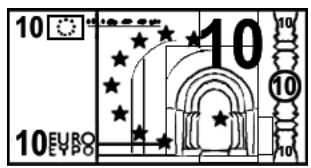


# Zahlen und Mengen : von 0 bis 30

## 1 Ergänze die Tabelle

0	1	2		4	5	6	7		9
10		12	13	14	15	16	17	18	
	21	22	23	24			27	28	29

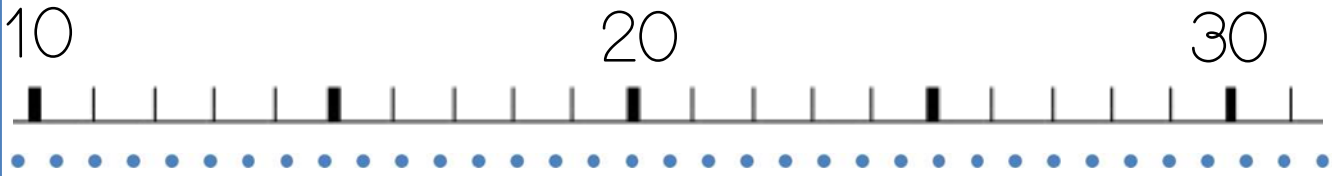
## 2 Wie viel Geld hat Arthur in seinem Sparschwein?:



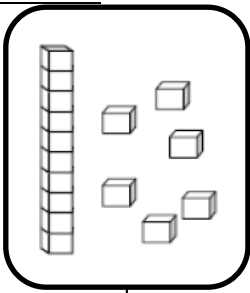
# Zahlen und Mengen : von 0 bis 30




1 Schreibe die Zahlen auf den Zahlenstrahl




2 Zeichne




16



22



24

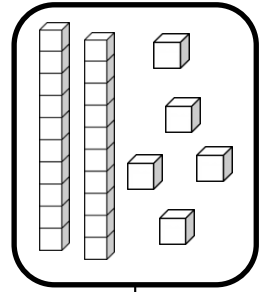
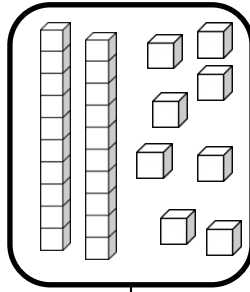
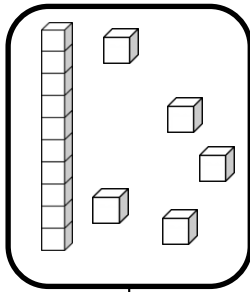
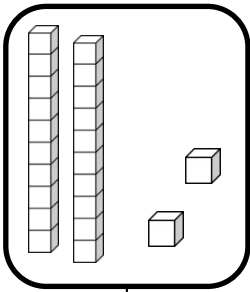


23


# Zahlen und Mengen : von 0 bis 30



1 Ergänze



2 Ergänze die Zahlenfolge




# Zahlen und Mengen : von 0 bis 30

1 Schreibe die Zahlen in Buchstaben. Schau die Etiketten an.

23	
15	
24	



- drei
- vier
- fünf
- zehn
- zwanzig
- und

2 Ergänze die Zahlenfolge



# Zahlen und Mengen : von 0 bis 30

1 Mach Zehnerpakete und ergänze



# Zahlen und Mengen : von 0 bis 30



1 Schreibe die Zahlen in Buchstaben. Schau die Etiketten an.

28	
18	
24	

- vier
- acht
- zehn
- zwanzig
- und

2 Ordne die Zahlen nach der Größe und beginne mit der größten Zahl

$28 - 14 - 6$


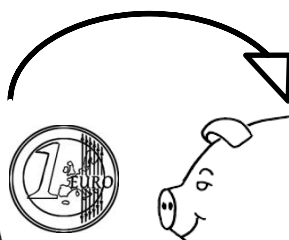
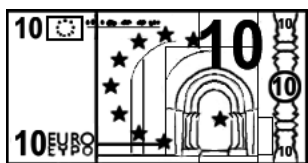
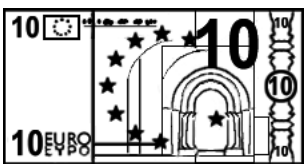
$27 - 16 - 24$

# Zahlen und Mengen : von 0 bis 30

1 Ergänze die Tabelle


0	1		3	4	5	6	7	8	
	11			14	15	16	17	18	19
20	21	22			25	26	27		29

2 Wie viel Geld hat Arthur in seinem Sparschwein?



## Zahlen und Mengen : von 0 bis 30

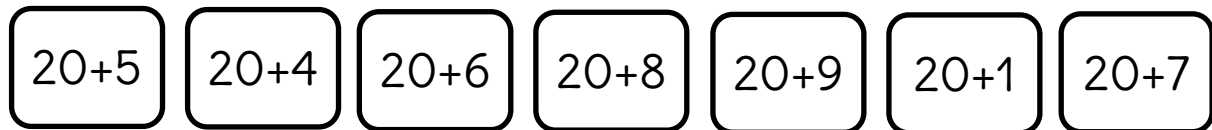
1 Der Frosch muss immer vorwärts. Male seinen Weg an.  
Wo kommt der Frosch an ? Kreise das Kästchen ein.




0	1	2	3	4	5	6	7	8	9
10	11		13	14	15	16	17	18	19
20	21	22	23	24	25	26	27	28	29

## Zahlen und Mengen : von 0 bis 30

1 Verbinde


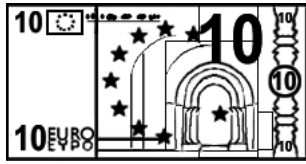
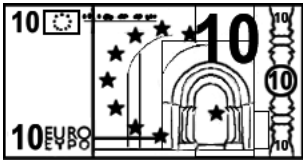


2 Ergänze die Zahlenfolge

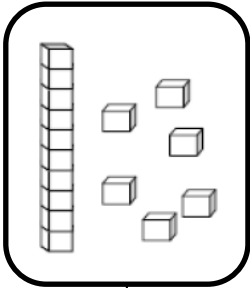


## Zahlen und Mengen : von 0 bis 30


1 Wie viel Geld hat Arthur in seinem Sparschwein?




2 Zeichne




16



22



24



23

## Zahlen und Mengen : von 0 bis 30



1 Male was gleich ist in derselben Farbe an.

23

dreiundzwanzig

siebenundzwanzig

$20+5$

$20+7$

29

25

fünfundzwanzig

$20+3$

$20+9$

$20+1$

21

27

neunundzwanzig

einundzwanzig

# Zahlen und Mengen : von 0 bis 30



1 Ordne die Zahlen nach der Größe und beginne mit der größten Zahl

$$15 - 22 - 20$$

$$27 - 17 - 24$$

2 Finde den Vorgänger und den Nachfolger

	29	
	22	
	16	

	25	
	14	
	27	

# Zahlen und Mengen : von 0 bis 30

1 Der Frosch muss immer vorwärts. Male seinen Weg an.  
Wo kommt der Frosch an ? Kreise das Kästchen ein.



+1

+10

+1

+1

+1

0	1		3	4	5	6	7	8	9
10	11	12	13	14	15	16	17	18	19
20	21	22	23	24	25	26	27	28	29



# Zahlen und Mengen : von 0 bis 30



1 Male was gleich ist in derselben Farbe an.

24

$20+8$

vierundzwanzig

achtundzwanzig

26

zweiundzwanzig

$20+4$

$20+9$

sechszwanzig

22

28

$20+2$

$20+6$



29

neunundzwanzig

# Zahlen und Mengen : von 0 bis 30



1 Mach Zehnerpakete und ergänze



# Zahlen und Mengen : von 0 bis 30

3  15

1 Ergänze mit  $<$ ,  $>$  oder  $=$ :

22 ..... 18

21 ..... 12

16 ..... 23

19 ..... 20

27 ..... 25

19 ..... 21

2 Ordne die Zahlen nach der Größe und beginne mit der kleinsten Zahl

25 - 21 - 15

13 - 3 - 23

# Zahlen und Mengen : von 0 bis 30



1 Finde den Vorgänger und den Nachfolger

— 28 —

— 24 —

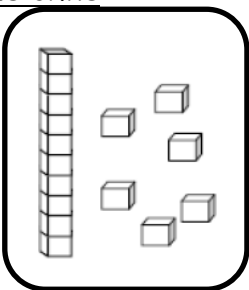
— 21 —

— 13 —

— 15 —

— 26 —

2 Zeichne



16

25

27

28

# Zahlen und Mengen : von 0 bis 30



1 Verbinde jede Zahl mit der richtigen Stelle auf dem Zahlenstrahl

9

12


16

27

23



2 Ergänze die Zahlenfolge



# Zahlen und Mengen : von 0 bis 30

3  15

1 Ergänze mit <, > oder =:

29 ..... 20 + 8

20 + 3 ..... 29

26 ..... 20 + 3

20 + 4 ..... 25

27 ..... 20 + 5

20 + 7 ..... 26

2 Ordne die Zahlen nach der Größe und beginne mit der kleinsten Zahl

26 - 17 - 12 - 20 - 7