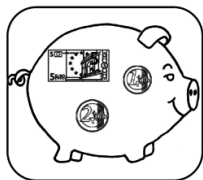



Compte l'argent contenu dans chaque tirelire et note-le dans le tableau :




A	
B	
C	
D	
E	
F	
G	
H	
I	
J	
K	
L	

Compte l'argent contenu dans chaque tirelire et note-le dans le tableau :



A	
B	
C	
D	
E	
F	
G	
H	
I	
J	
K	
L	

Compte l'argent contenu dans chaque tirelire et note-le dans le tableau :



A	
B	
C	
D	
E	
F	
G	
H	
I	
J	
K	
L	