




Sur mon rosier, il y a 4 coccinelles jaunes et 2 coccinelles rouges.

Combien y a-t-il de coccinelles sur mon rosier?

4



2



Il y a **6** coccinelles sur mon rosier.




Sur mon rosier, il y a 1 coccinelle jaune et 3 coccinelles rouges.

Combien y a-t-il de coccinelles sur mon rosier?

1



3




Il y a **4** coccinelles sur mon rosier.




Sur mon rosier, il y a 9 coccinelles jaunes et 7 coccinelles rouges.

Combien y a-t-il de coccinelles sur mon rosier?

9



7



Il y a **16** coccinelles sur mon rosier.




Sur mon rosier, il y a 5 coccinelles jaunes et 8 coccinelles rouges.

Combien y a-t-il de coccinelles sur mon rosier?

5



8



Il y a **13** coccinelles sur mon rosier.