


Nombres et quantités: de 0 à 99



1 Relie les nombres dans l'ordre, de 1 à 100



2 Complète :

| | |
|----|----------|
| 82 | $80 + 2$ |
| 96 | |
| 87 | |
| 91 | |

| | |
|--|----------|
| | $80 + 5$ |
| | $90 + 3$ |
| | $70 + 7$ |
| | $90 + 9$ |

Prénom : _____

Date: _____

Nombres et quantités : de 0 à 99



1 Complète le tableau:

| nombre avant | nombre | nombre après |
|--------------|--------|--------------|
| | 95 | |
| 98 | | |
| | | 91 |
| 97 | | |

2 Complète avec <, > ou =:

3  15

65 95

92 62

19 91

90 9

67 97

98 85

91 91

99 88

3 Relie les nombres à leur place sur la droite graduée

59

72

88

95

97

60


70

80

90

100

4 Complète la bande numérique:

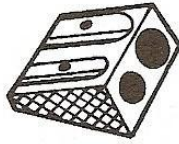


Nombres et quantités : de 0 à 99




1 Ecris les nombres manquants:

83 86

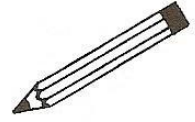


..... 86



89 92



77



.....
.....
.....
89 99

85 95
.....
.....
.....

2 Compte en groupant par 10:



Prénom : _____

Date: _____

Nombres et quantités : de 0 à 99

3  15

1 Complète avec $<$, $>$ ou $=$:

92 9d 3u

91 9d

94 9d 4u

69 7d 9u

94 4d 9u

90 9d


2 Ecris les nombres dans l'ordre croissant, du plus petit au plus grand:

81 - 94 - 73 - 89 - 97 - 67

3 Ecris les nombres en lettres:

| | |
|----|--|
| 99 | |
| 89 | |
| 76 | |
| 54 | |
| 77 | |
| 91 | |

4 Complète la bande numérique:



Prénom : _____

Date: _____

Nombres et quantités : de 0 à 99



1 Complète les tableaux:

| | |
|----|-------|
| 54 | 5d 4u |
| 75 | |
| 82 | |
| 90 | |

| | |
|--|-------|
| | 9d 5u |
| | 7d 7u |
| | 9d 8u |
| | 8d 0u |

2 Colorie le chiffre 9 quand il correspond une unité:

92

98

9

89

79

86

67

99

3 Ecris les nombres dans l'ordre croissant, du plus petit au plus grand:

49 - 74 - 98 - 88 - 79 - 89

□ □ □ □ □ □

4 Dessine :

| | | |
|----|--|----|
| 93 | | 99 |
| 91 | | 90 |

Prénom : _____

Date: _____

Nombres et quantités : de 0 à 99

3  15

1 Complète avec $<$, $>$ ou $=$:

92 $90 + 2$

96 $90 + 2$

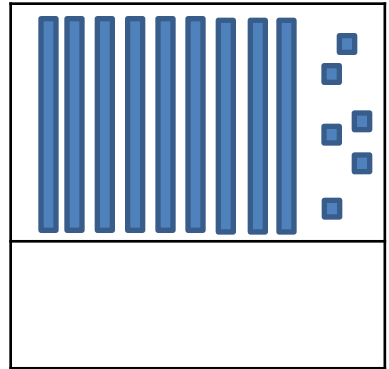
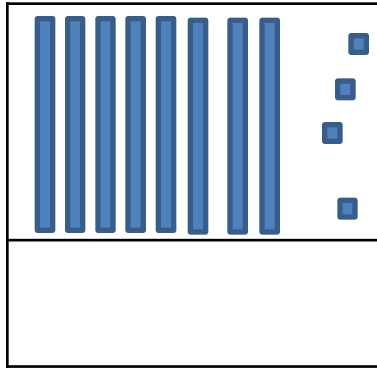
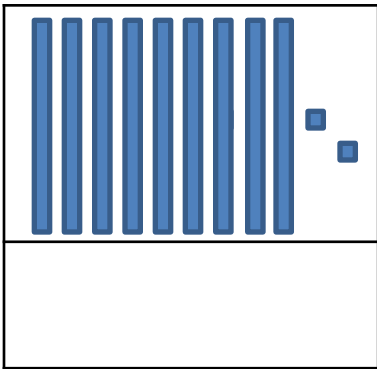
98 $50 + 8$

79 $90 + 7$

96 $50 + 20 + 6$

98 $50 + 40 + 8$

2 Compte et complète :



3 Ecris les nombres du plus grand au plus petit:

76 - 68 - 59 - 95 - 90 - 80

3 Complète :

