


Prénom : \_\_\_\_\_


Date: \_\_\_\_\_

## Mesure : Les masses

**1 Complète** les phrases en écrivant plus lourde, plus légère ou aussi lourde :




La casserole est .....  
..... que la boîte de conserve.




La poule est .....  
..... que le hérisson.

**2 Complète** les phrases en écrivant plus lourd ou plus léger :

Le train est .....  
que la voiture.



**3 Observe et complète :**




L'ours est plus lourd que .....

Le ballon est plus lourd que .....

**Range** ces 3 objets du plus lourd au plus léger.

1. .... 2. .... 3. ....


**4 Observe et coche :**



La banane et l'orange ont-elles la même masse ?

oui  non

**5 Entoure** le fruit le plus lourd



**Range** ces fruits du plus lourd au plus léger.


1. .... 2. ....  
3. ....

Prénom : \_\_\_\_\_

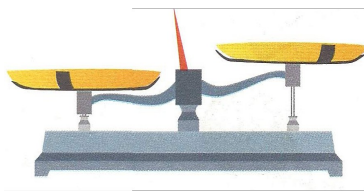
Date: \_\_\_\_\_

## Mesure : Les masses

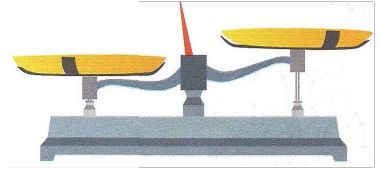
### 1 Dessine les objets sur la balance



a) la tasse est plus lourde que la cuillère



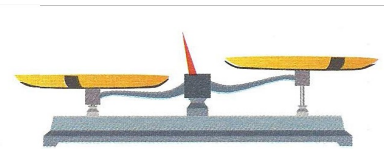


b) l'assiette est plus lourde que le verre



c) le couteau est plus lourd que la fourchette

### 2 Lis les phrases et dessine les objets au bon endroit :

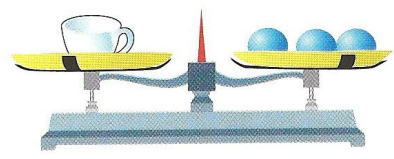
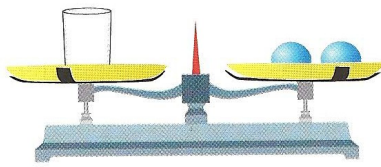

Le triangle est plus lourd que le rond.  
Le rectangle est plus lourd que le triangle.  
Le rectangle est plus lourd que le rond.



Quel est l'objet le plus lourd ? .....

### 3 Les billes sont identiques.

a) Classe ces objets du plus lourd au plus léger.



1. ....

2. ....

3. ....



Le croissant a la même masse que ..... billes noires.


Prénom : \_\_\_\_\_

Date: \_\_\_\_\_

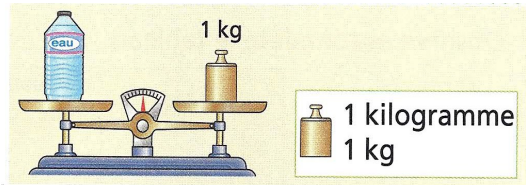
## Mesure : Les masses

### 1 Observe :

1 gramme  
1 g



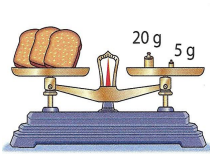
1 g, c'est lourd comme une punaise.



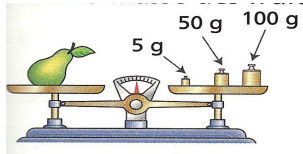
1 kilogramme  
1 kg

1 kg, c'est lourd comme 1 litre d'eau.

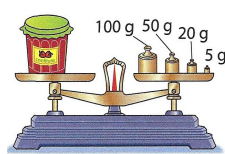
### Ecris la masse de chaque objet :



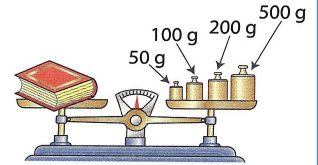
..... g



..... g



..... g

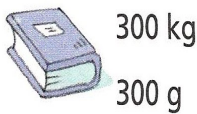


..... g

### 2 Entoure la masse de chaque objet :



25 kg  
25 g




300 kg  
300 g



25 kg  
25 g



29 kg  
29 g



500 kg  
500 g

### 3 Complète avec la masse qui convient :

13 kg

1 kg

190 kg

75 kg



..... kg



..... kg



..... kg



..... kg

### 4 Numérote les enfants du plus léger au plus lourd :



35 kg

(...)



27 kg

(...)



43 kg

(...)



48 kg

(...)



37 kg


(...)

Prénom : \_\_\_\_\_


Date : \_\_\_\_\_

## Mesure : Les masses

1 Lisa pèse la pastèque. Elle utilise soit le kilogramme, soit les grammes. **Complète.**



La pastèque pèse ..... kg.



..... + ..... = .....

La pastèque pèse ..... kg.

1 kg = ..... grammes

2 **Complète** les phrases avec **g** ou **kg**.

Le docteur a pesé Manon pour ses 10 ans. Il a lu sur la balance : 32 .....

Une entrecôte de bœuf pèse environ 350 .....

Une grosse moto peut peser plus de 200 .....

3 **Complète** avec **g** ou **kg**.

un trombone : 2 .....

une fille de 8 ans : 29 .....

une baguette de pain : 250 .....

un bébé : 3 .....

une tablette de chocolat : 150 .....

un chat : 5 .....

une raquette : 300 .....

un VTT : 13 .....

une grappe de raisin : 200 .....

un cartable : 6 .....

4 **Range** les masses de la plus légère à la plus lourde

2 kg

7 g

35 kg

875 g

1 kg

99 g

.....	.....	.....	.....	.....	.....
-------	-------	-------	-------	-------	-------




Prénom : \_\_\_\_\_

Date: \_\_\_\_\_

## Mesure : Les masses

1 **Compare** les masses avec  $>$  ou  $<$ .



1 kg = 1 000 g

458 g ..... 784 g

1 000 g ..... 999 g

18 g ..... 1 kg

974 g ..... 2 kg

35 kg ..... 27 kg

54 kg ..... 265 g

2 **Entoure** le nom de l'animal le plus lourd.

a) Vipère : 100 g – Sanglier : 10 kg

b) Poule naine : 895 g – Lapin : 1 kg

c) Castor : 25 kg – Martin-pêcheur : 35 g

d) Hibou : 305 g – Mouette : 350 g

e) Escargot de Madagascar : 250 g – Escargot de Bourgogne : 25 g

3 **Recopie** ce qui pèse moins de 10 g.

un cahier  
une trousse pleine  
un trombone  
un dictionnaire  
un bouchon de stylo

4 **Recopie** ce qui pèse plus de 1 kg.

une gomme  
une armoire  
une chaise  
un bureau  
une boîte de feutres

5 **Numérote** les singes du plus lourd au plus léger.

ouistiti



400 g



atèle



7 kg



chimpanzé



50 kg




gibbon



11 kg



saïmiri



1 kg



