

Vorname : _____

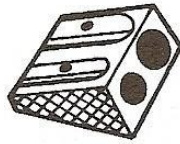
Datum : _____

Zahlen und Mengen : von 0 bis 199




1 Schreibe die fehlenden Zahlen :

183	186
-----	------	------	-----

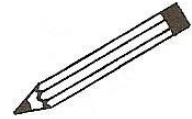


....	126
------	------	------	-----



....
....
189	192

117
-----	------	------	------



155
-----	------	------

....	165
------	------	-----

....
....
....
149
....	159

....
....
....
....

2 Male gleiche Zahlen in derselben Farbe an :

hundertvierundachtzig

123

$100 + 80 + 4$

$100 + 20 + 3$

$100 + 9$

109

$100 + 40 + 9$

hundertneun

hundertneunundvierzig

184

149

hundertdreiundzwanzig

3 Ergänze :

182	$100 + 80 + 2$
146	
187	
141	

	$100 + 40 + 5$
	$100 + 90 + 3$
	$100 + 50 + 7$
	$100 + 10 + 9$

Vorname : _____

Datum: _____

Zahlen und Mengen : von 0 bis 199



1 Ergänze :

Vorgänger	Zahl	Nachfolger
	145	
108		
		161
197		

2 Ergänze mit $<$, $>$ oder $=$:

3  15

165

.....

195

110

.....

101

119

.....

91

90

.....

109

167

.....

176

98

.....

185

141

.....

114

111

.....

88

3 Verbinde jede Zahl mit der richtigen Stelle auf dem Zahlenstrahl :

99

112

108

134

127

100

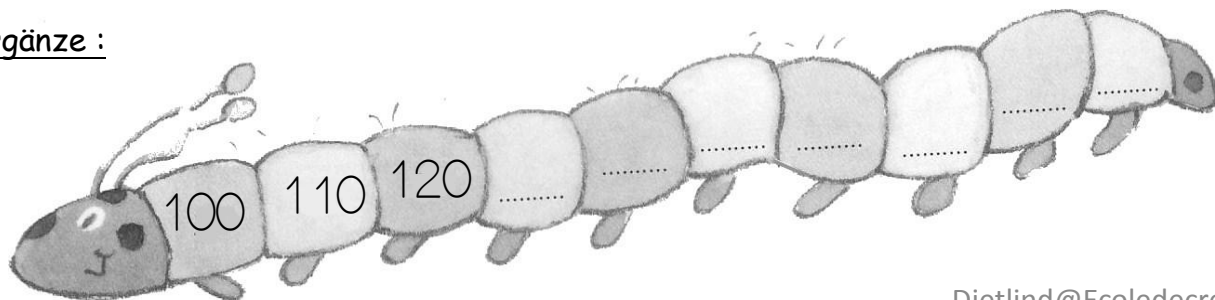
110

120

130

140

4 Ergänze :



Vorname : _____

Datum : _____

Zahlen und Mengen : von 0 bis 199



1 Verbinde die gleichen Zahlen :

125

hundertfünfundachtzig

124

hundertfünfundzwanzig

185

hundertvier

104

hundertfünfundfünfzig

155

hundertvierundzwanzig


105

hundertfünf

150

hundertfünfzig

2 Mach' Zehnerpakete dann Hunderterpakete und zähle



Vorname : _____

Datum: _____

Zahlen und Mengen : von 0 bis 199



1 Schreibe den Vorgänger und den Nachfolger :

..... 112

..... 148

..... 58

..... 125

..... 185

..... 176

..... 95

..... 122

..... 198

2 Ordne die Zahlen nach der Größe und beginne mit der kleinsten Zahl

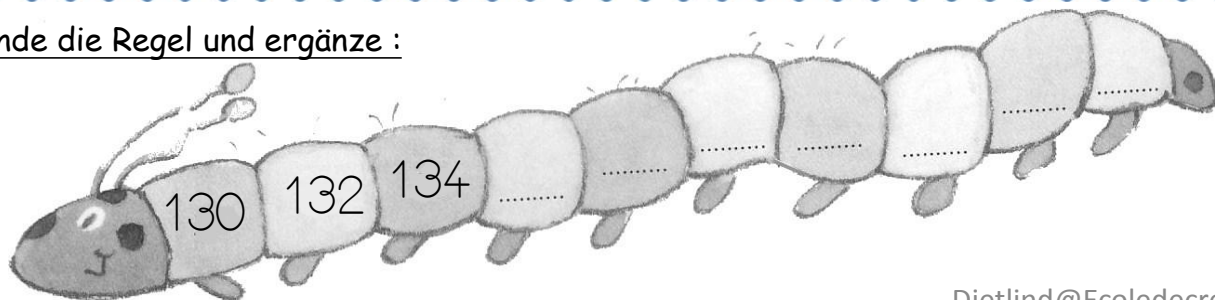
181 - 94 - 173 - 89 - 97 - 167 - 184

□ □ □ □ □ □ □

3 Schreibe die Zahlen in Worten :

109	
125	
138	
164	
198	
155	

4 Finde die Regel und ergänze :



Vorname : _____

Datum: _____

Zahlen und Mengen : von 0 bis 199



1 Ergänze mit den Nachbarzehnern :

..... 152

..... 188

..... 78

..... 165

..... 145

..... 166

..... 85

..... 112

..... 178

2 Male die Einer blau an, die Zehner in rot und die Hunderter in grün :

192

198

9

19

119

89

79

86

67

199

167

99

3 Ordne die Zahlen nach der Größe und beginne mit der kleinsten Zahl :

105 - 195 - 140 - 98 - 79 - 164 - 150

□ □ □ □ □ □ □

4 Zeichne die Zahlen mit Würfeln, Einerstangen und Hunderterquadraten wie im Beispiel :

123		154
105		160

Vorname : _____

Datum: _____

Zahlen und Mengen : von 0 bis 199

3  15

1 Ergänze mit $<$, $>$ oder $=$:

102 $100 + 20$

167 $100 + 70$

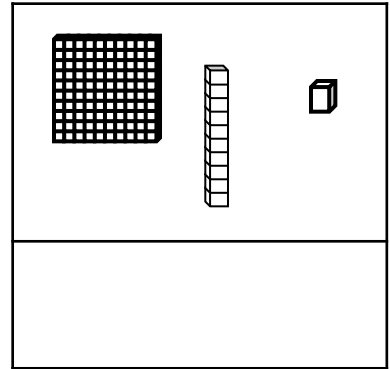
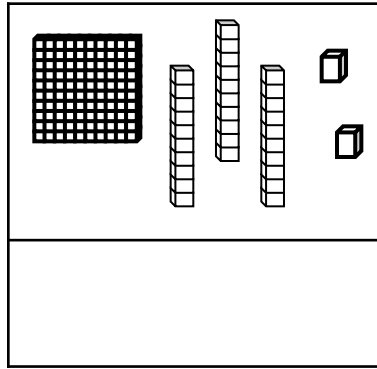
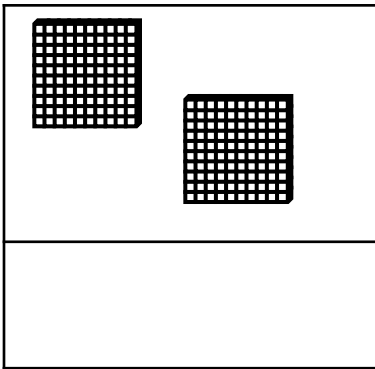
138 $100 + 30 + 8$

130 $100 + 30 + 1$

156 $100 + 60 + 5$

175 $100 + 100$

2 Zähle und ergänze :




3 Ordne die Zahlen von der größten bis zur kleinsten Zahl :

105 - 86 - 185 - 134 - 96 - 110 - 100

□ □ □ □ □ □ □

4 Finde die Regel und ergänze :



Vorname : _____

Datum: _____

Zahlen und Mengen : von 0 bis 199

3  15

1 Ergänze mit <, > oder =:

152 hundertzwei

177 hundertsiebzehn

128 hundertachtzehn

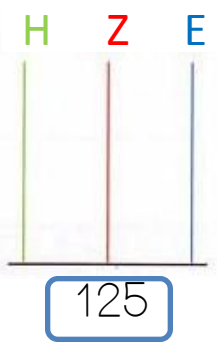
103 hundertdrei

136 hundertfünfzig

165 hundertsechzig

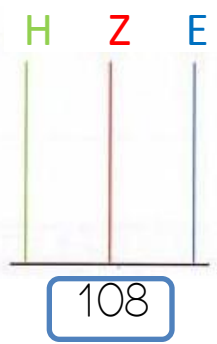
2 Zeichne die Perlen :

H Z E




125

H Z E




108

H Z E



167

H Z E

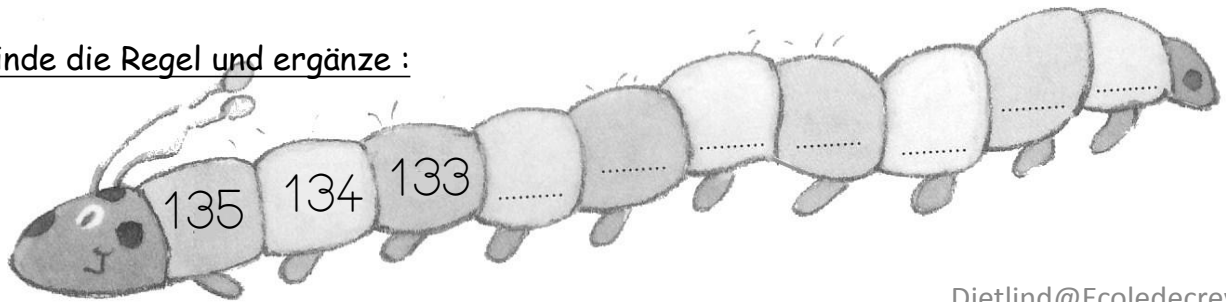


118

3 Ergänze :

127	$100 + 20 + 7$	1 H + 2 Z + 7 E
165		
149		
182		
109		

4 Finde die Regel und ergänze :



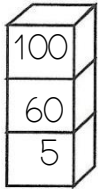
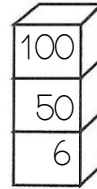
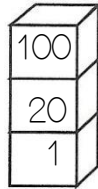
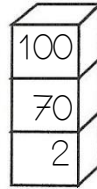
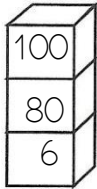
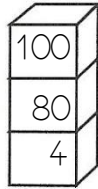
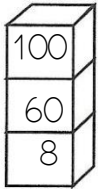
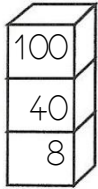
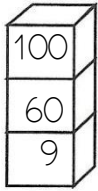
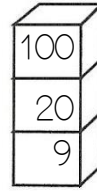
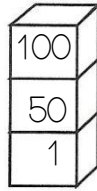
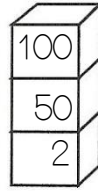
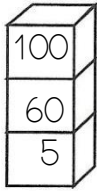
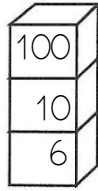
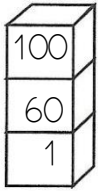
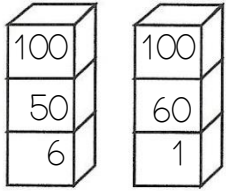
Vorname : _____

Datum: _____


Zahlen und Mengen : von 0 bis 199



1 Male immer den Turm an, der die kleinste Zahl hat :



2 Ich brauche 136 €. Kreise die Scheine und Münzen ein :



Um 136€ zu haben, brauche ich :

- ... 100€ Scheine
- ... 10€ Scheine
- ... 1€ Münzen

3 Verbinde jede Zahl mit der richtigen Stelle auf dem Zahlenstrahl

159

172

181

179

187

150


160

170

180

190

4 Ergänze :



Vorname : _____

Datum: _____




Zahlen und Mengen : von 0 bis 199

1 Ergänze jede Spalte :

135	148	171	103	157	111
136	149	172	104	158	112

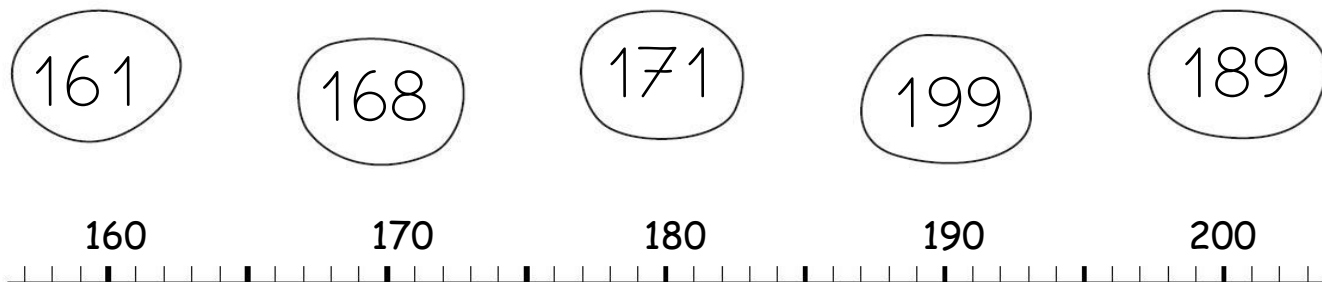
2 Ich brauche 147€. Kreise die Scheine und Münzen ein :



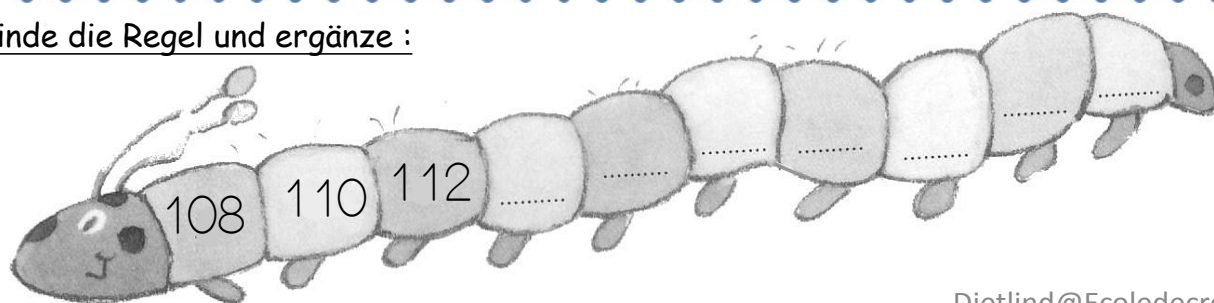
Um 147€ zu haben, brauche ich :

- ... 100€ Scheine
- ... 10€ Scheine
- ... 1€ Münzen

3 Verbinde jede Zahl mit der richtigen Stelle auf dem Zahlenstrahl



4 Finde die Regel und ergänze :



Vorname : _____

Datum: _____

Zahlen und Mengen : von 0 bis 199



1 Schreibe in Ziffern :

hundertsechsfundfünfzig :

hundertsechzig :

hundertfünfundsechzig :

hundertdrei :

hundertneunzig :


hundertneunundzwanzig :

hundertelf :

hundertzweiundachtzig :

2 Ich brauche 106€. Kreise die Scheine und Münzen ein :

Um 106€ zu haben, brauche ich :



- ... 100€ Scheine
- ... 10€ Scheine
- ... 1€ Münzen

3 Schreibe die Zahlen an den richtigen Platz auf die Säckchen :

199 - 177 - 187 - 174 - 168 - 163 - 183 - 193

