

Prénom : \_\_\_\_\_

Date: \_\_\_\_\_

## Nombres et quantités : de 0 à 79



1 Complète le tableau:

nombre avant	nombre	nombre après
	75	
68		
		71
77		

2 Complète avec <, > ou =:

3  15

65 ..... 55

42 ..... 62

16 ..... 61

70 ..... 7

67 ..... 77

78 ..... 75

61 ..... 61

44 ..... 66

3 Relie les nombres à leur place sur la droite graduée

38

52

68

75

79

40


50

60

70

80


4 Complète la bande numérique:



# Nombres et quantités: de 0 à 79



1 Relie les nombres dans l'ordre, de 1 à 80



2 Complète :

72	$70 + 2$
74	
57	
71	

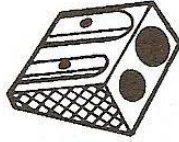
	$70 + 5$
	$30 + 3$
	$70 + 6$
	$70 + 9$

# Nombres et quantités : de 0 à 79




1 Ecris les nombres manquants:

63 ..... 66

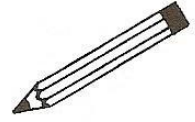


..... 66



69 ..... 72


57 .....



.....  
.....  
.....  
69 ..... 79

65 ..... 75  
.....  
.....  
.....

2 Compte en groupant par 10:



Prénom : \_\_\_\_\_

Date: \_\_\_\_\_

## Nombres et quantités : de 0 à 79

3  15

1 Complète avec  $<$ ,  $>$  ou  $=$ :

72 ..... 7d 3u

71 ..... 7d

64 ..... 6d 4u

69 ..... 4d 9u

64 ..... 4d 6u

70 ..... 7d


2 Ecris les nombres dans l'ordre croissant, du plus petit au plus grand:

61 - 74 - 53 - 79 - 19 - 67

3 Ecris les nombres en lettres:

54	
69	
76	
67	
78	
41	

4 Complète la bande numérique:



Prénom : \_\_\_\_\_

Date: \_\_\_\_\_

## Nombres et quantités : de 0 à 79



1 Complète les tableaux:

54	5d 4u
75	
42	
60	

	7d 5u
	6d 4u
	4d 2u
	7d 0u

2 Colorie le chiffre 6 quand il correspond une dizaine:

62

46

5

69

76

78

67

6

3 Ecris les nombres dans l'ordre croissant, du plus petit au plus grand:

45 - 74 - 35 - 68 - 73 - 60

□ □ □ □ □ □

4 Dessine :

<u>73</u> 	<u>79</u>
<u>71</u>	<u>70</u>

Prénom : \_\_\_\_\_

Date: \_\_\_\_\_

## Nombres et quantités : de 0 à 79

3  15

1 Complète avec  $<$ ,  $>$  ou  $=$ :

72 .....  $10 + 2$

75 .....  $70 + 2$

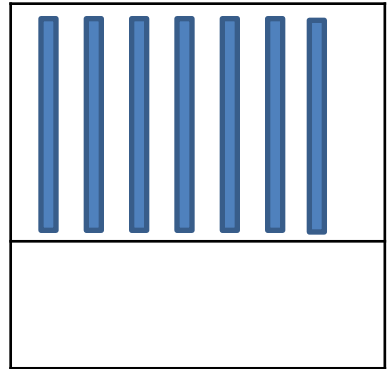
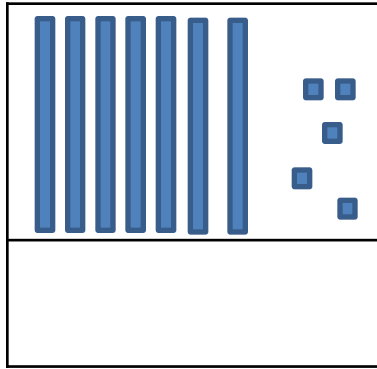
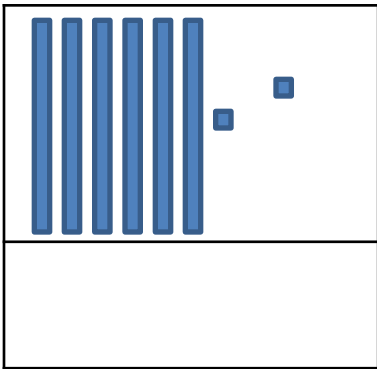
58 .....  $50 + 8$

72 .....  $20 + 7$

46 .....  $20 + 20 + 8$

70 .....  $50 + 10$

2 Compte et complète :



3 Ecris les nombres du plus grand au plus petit:

76 - 64 - 55 - 15 - 70 - 40

3 Complète :

