

Vorname : _____

Datum: _____

Zahlen und Mengen : von 0 bis 999



1 Ergänze :

Vorgänger	Zahl	Nachfolger
	445	
608		
		261
854		

2 Ergänze mit $<$, $>$ oder $=$:

3  15

265

.....

625

100

.....

200

109

.....

901

350

.....

410

600

.....

612

918

.....

185

49

.....

412

180

.....

818

3 Verbinde jede Zahl mit der richtigen Stelle auf dem Zahlenstrahl :

420

370

630

550

590

300

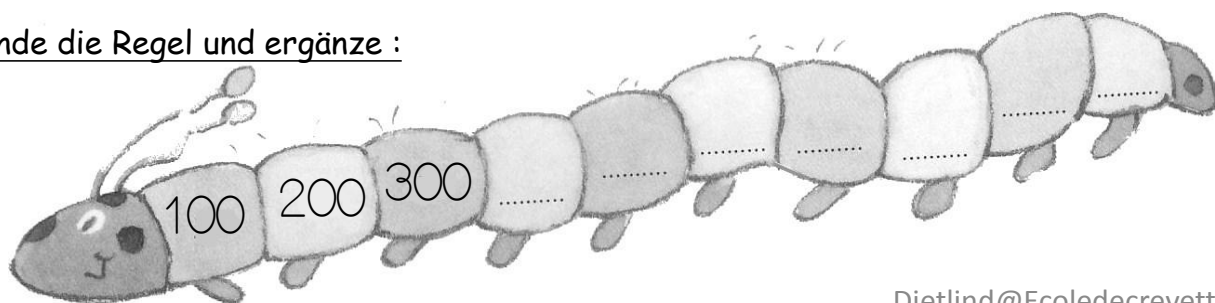
400

500

600

700

4 Finde die Regel und ergänze :



Vorname : _____

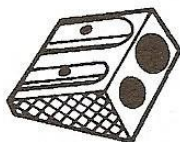
Datum: _____




Zahlen und Mengen : von 0 bis 999

1 Schreibe die fehlenden Zahlen :

283 286

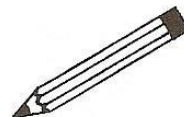


..... 326



.....
.....
.....
289 292

317
.....



.....
.....
.....
449 459

555 565
.....
.....
.....

2 Male gleiche Zahlen in derselben Farbe an :

523

vierhundertvierundachtzig

$200 + 9$

$400 + 80 + 4$

$500 + 20 + 3$

neunhundertneunundvierzig

209

zweihundertneun

$900 + 40 + 9$

949

fünfhundertdreiundzwanzig

484

3 Ergänze :

182	$100 + 80 + 2$
646	
287	
841	

	$700 + 40 + 5$
	$300 + 90 + 3$
	$900 + 50 + 7$
	$500 + 10 + 9$

Vorname : _____

Datum: _____

Zahlen und Mengen : von 0 bis 999



1 Verbinde die gleichen Zahlen :

425

fünfhundertfünfundachtzig

224

vierhundertfünfundzwanzig

585

achthundertvier

804

vierhundertfünfundfünfzig

455

zweihundertvierundzwanzig

505

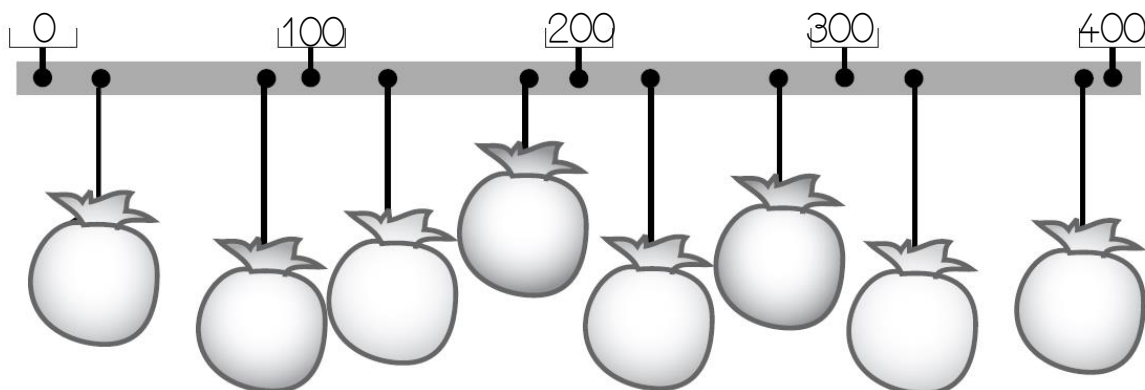
fünfhundertfünf

850

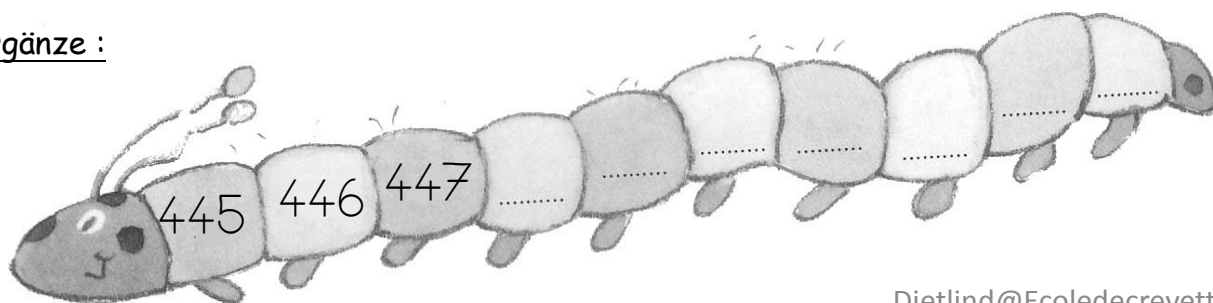
achthundertfünfzig

2 Schreibe die Zahlen an den richtigen Platz auf die Säckchen :

390 - 90 - 25 - 325 - 130 - 250 - 180 - 275



3 Ergänze :



Vorname : _____

Datum: _____

Zahlen und Mengen : von 0 bis 999



1 Schreibe den Vorgänger und den Nachfolger :

..... 152

..... 448

..... 598

..... 825

..... 485

..... 776

..... 905

..... 622

..... 98

2 Ordne die Zahlen nach der Größe und beginne mit der kleinsten Zahl


481 - 94 - 814 - 189 - 197 - 167 - 414

□ □ □ □ □ □ □

3 Schreibe die Zahlen in Worten :

209	
625	
438	
104	
798	
355	

4 Finde die Regel und ergänze :



Vorname : _____

Datum: _____

Zahlen und Mengen : von 0 bis 999



1 Ergänze mit den Nachbarzehnern :

..... <input type="text" value="452"/> <input type="text" value="488"/> <input type="text" value="68"/>
..... <input type="text" value="185"/> <input type="text" value="645"/> <input type="text" value="426"/>
..... <input type="text" value="815"/> <input type="text" value="312"/> <input type="text" value="778"/>

2 Male die Einer blau an, die Zehner in rot und die Hunderter in grün :

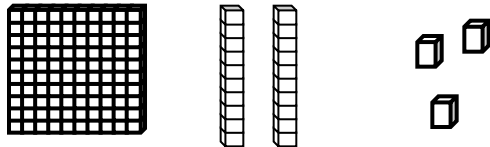
<input type="text" value="912"/>	<input type="text" value="198"/>	<input type="text" value="4"/>	<input type="text" value="19"/>	<input type="text" value="109"/>	<input type="text" value="589"/>
<input type="text" value="719"/>	<input type="text" value="46"/>	<input type="text" value="127"/>	<input type="text" value="159"/>	<input type="text" value="167"/>	<input type="text" value="919"/>

3 Ordne die Zahlen nach der Größe und beginne mit der kleinsten Zahl :

505 - 395 - 400 - 64 - 51 - 664 - 550

<input type="text"/>	<input type="text"/>	<input type="text"/>	<input type="text"/>	<input type="text"/>	<input type="text"/>	<input type="text"/>
----------------------	----------------------	----------------------	----------------------	----------------------	----------------------	----------------------

4 Zeichne die Zahlen mit Würfeln, Einerstangen und Hunderterquadraten wie im Beispiel :

<u>123</u> 	<u>354</u>
<u>405</u> 	<u>260</u>

Vorname : _____

Datum: _____

Zahlen und Mengen: von 0 bis 999

3  15

1 Ergänze mit $<$, $>$ oder $=$:

202 $100 + 20$

467 $400 + 70$

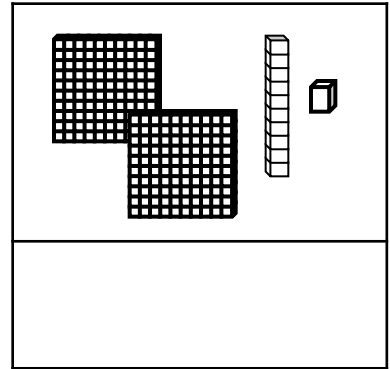
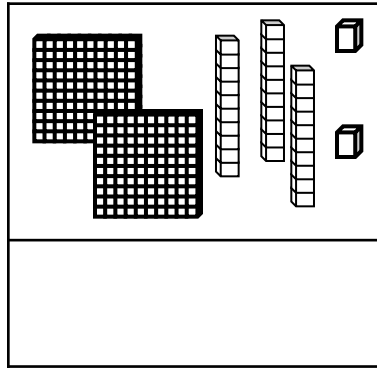
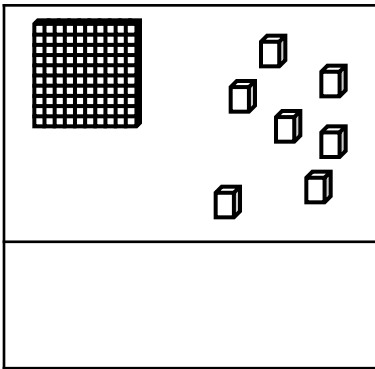
338 $300 + 80 + 8$

630 $600 + 30$

256 $300 + 60 + 5$

375 $100 + 100 + 100$


2 Zähle und ergänze :



3 Ordne die Zahlen von der größten bis zur kleinsten Zahl :

655 - 816 - 565 - 154 - 96 - 810 - 500

4 Finde die Regel und ergänze :



Vorname : _____

Datum: _____

Zahlen und Mengen : von 0 bis 999



1 Ergänze mit <, > oder =:

252 dreihundertzwei

477 fünfhundertzehn

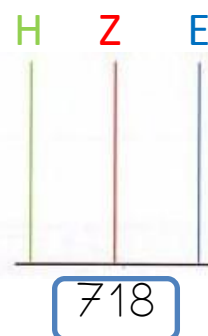
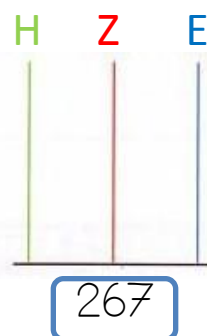
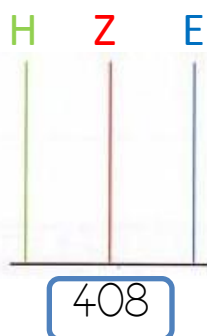
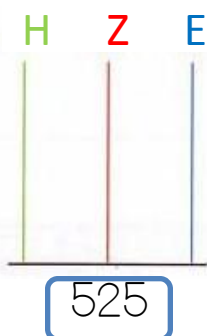
28 hundertacht

803 achthundertdrei

536 fünfhundert

465 hundertsechzig


2 Zeichne die Perlen :



3 Ergänze wie im Beispiel :

827	$800 + 20 + 7$	$8 \text{ H} + 2 \text{ Z} + 7 \text{ E}$
565		
959		
282		
709		

4 Ergänze :



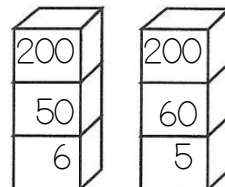
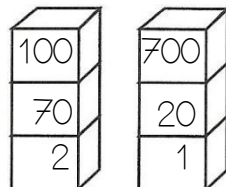
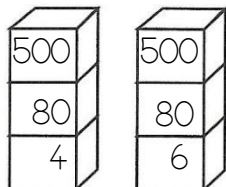
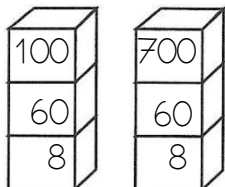
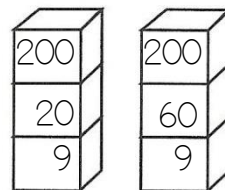
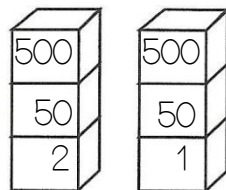
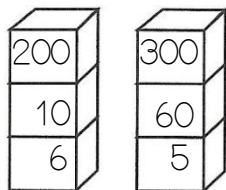
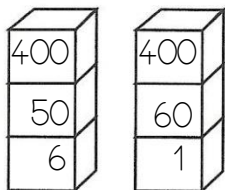
Vorname : _____

Datum: _____

Zahlen und Mengen : von 0 bis 999



1 Male immer den Turm an, der die kleinste Zahl zeigt :



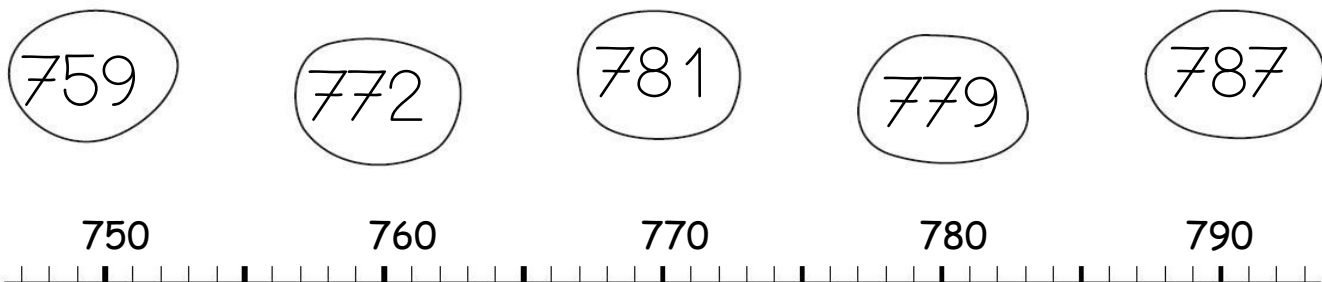
2 Ich brauche 336€. Kreise die Scheine und Münzen ein :



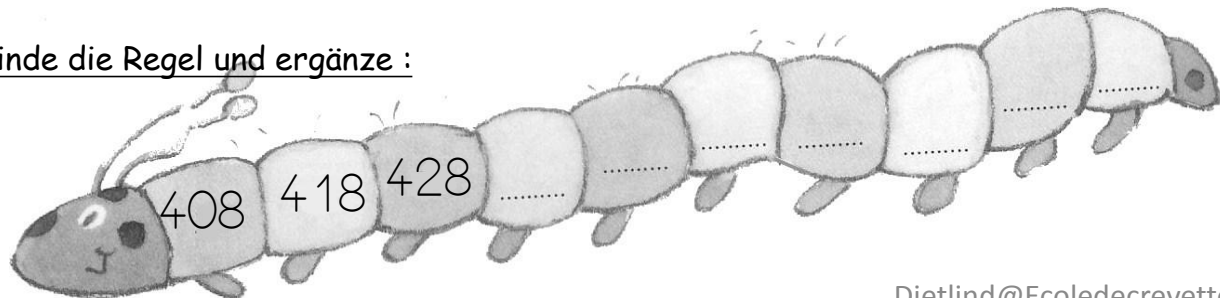
Um 336€ zu haben, brauche ich :

- ... 100€ Scheine
- ... 10€ Scheine
- ... 1€ Münzen

3 Verbinde jede Zahl mit der richtigen Stelle auf dem Zahlenstrahl :



4 Finde die Regel und ergänze :



Vorname : _____

Datum: _____

Zahlen und Mengen : von 0 bis 999



1 Ergänze jede Spalte :

535	748	271	303	497	811
536	749	272	304	498	812

2 Ich brauche 447€. Kreise die Scheine und Münzen ein :

Um 447€ zu haben, brauche ich :



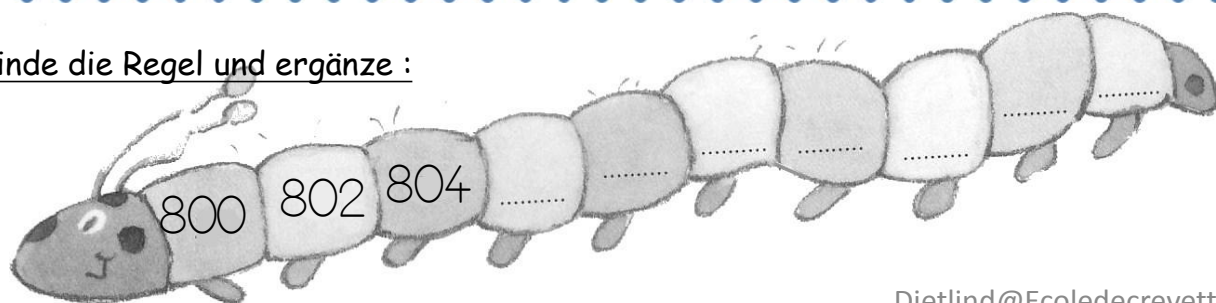
- ... 100€ Scheine
- ... 10€ Scheine
- ... 1€ Münzen

3 Verbinde jede Zahl mit der richtigen Stelle auf dem Zahlenstrahl :

591 579 612 599 619

580 590 600 610 620

4 Finde die Regel und ergänze :



Vorname : _____

Datum: _____

Zahlen und Mengen : von 0 bis 999



1 Schreibe in Ziffern :

zweihundertsechsfünfzig :

dreihundertsiebenzig :

hundertsechszwanzig :

fünfhundertdrei :


sechshundertneunzig :

sechshundertneunundzwanzig :

neunhundertelf :

siebenhundertzweiundachtzig :

2 Ich brauche 606€. Kreise die Scheine und Münzen ein :

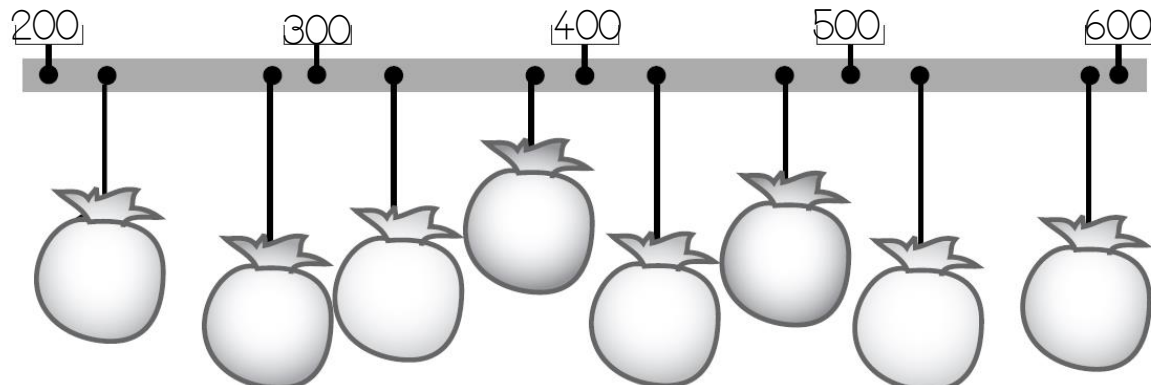


Um 606€ zu haben, brauche ich :

- ... 100€ Scheine
- ... 10€ Scheine
- ... 1€ Münzen

3 Schreibe die Zahlen an den richtigen Platz auf die Säckchen :

525 - 330 - 428 - 290 - 590 - 225 - 382 - 475



Vorname : _____

Datum : _____

Zahlen und Mengen : von 0 bis 999



1 Ergänze :

Vorgänger	Zahl	Nachfolger
	613	
458		
		278
163		

2 Ergänze mit $<$, $>$ oder $=$:

3  15

365

.....

635

75

.....

111

152

.....

150

509

.....

59

901

.....

910

956

.....

912

278

.....

728

666

.....

555

3 Verbinde jede Zahl mit der richtigen Stelle auf dem Zahlenstrahl :

740

670

830

990

890

600


700

800

900

1000

4 Finde die Regel und ergänze :



Vorname : _____

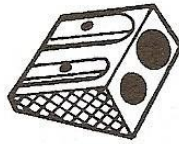
Datum : _____

Zahlen und Mengen : von 0 bis 999




1 Schreibe die fehlenden Zahlen :

253	256
-----	------	------	-----

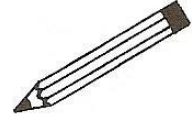


....	420
------	------	------	-----



....
....
259	262

411
-----	------	------	------



702
-----	------	------	------

....	712
------	------	------	-----

....
....
....
689
....
....	699

....
....
....
....
....
....

2 Male gleiche Zahlen in derselben Farbe an :

609

sechshundertneunundneunzig

$600 + 9$

$600 + 90 + 1$

$600 + 90 + 9$

sechshunderteinundneunzig

619

sechshundertneun

$600 + 10 + 9$

699

sechshundertneunzehn

691

3 Ergänze :

182	$100 + 80 + 2$
520	
806	
741	

	$600 + 40 + 8$
	$700 + 3$
	$900 + 50$
	$400 + 10 + 4$

Vorname : _____

Datum : _____

Zahlen und Mengen : von 0 bis 999



1 Verbinde die gleichen Zahlen :

426

fünfhundertachtundachtzig

228

vierhundertsechszwanzig

588

achthundertneun

809

vierhundertsechsfünfzig

456

zweihundertachtundzwanzig

501

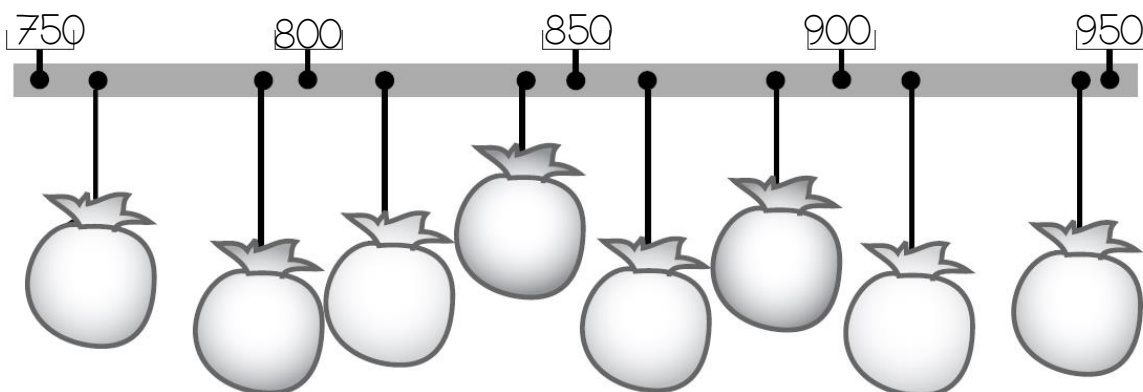
fünfhunderteins

860


achthundertsechzig

2 Schreibe die Zahlen an den richtigen Platz auf die Säckchen :

915 - 860 - 815 - 760 - 990 - 790 - 840 - 880



3 Ergänze :



Vorname : _____

Datum : _____

Zahlen und Mengen : von 0 bis 999



1 Schreibe den Vorgänger und den Nachfolger :

..... 540

..... 104

..... 750

..... 256

..... 200

..... 436

..... 706

..... 462

..... 685

2 Ordne die Zahlen nach der Größe und beginne mit der kleinsten Zahl :


514 - 214 - 85 - 612 - 126 - 541 - 650

□ □ □ □ □ □ □

3 Schreibe die Zahlen in Worten :

645	
305	
814	
675	
298	
360	

4 Finde die Regel und ergänze :



Vorname : _____

Datum : _____

Zahlen und Mengen : von 0 bis 999



1 Ergänze mit den Nachbarzehnern :

..... 452

..... 488

..... 68

..... 185

..... 645

..... 426

..... 815

..... 312

..... 778

2 Male die Einer blau an, die Zehner in rot und die Hunderter in grün :

912

198

4

19

109

589

719

46

127

159

167

919

3 Ordne die Zahlen nach der Größe und beginne mit der kleinsten Zahl :

214 - 244 - 240 - 211 - 241 - 210 - 204

<input type="text"/>	<input type="text"/>	<input type="text"/>	<input type="text"/>	<input type="text"/>	<input type="text"/>	<input type="text"/>
----------------------	----------------------	----------------------	----------------------	----------------------	----------------------	----------------------

4 Zeichne die Zahlen mit Würfeln, Einerstangen und Hunderterquadraten wie im Beispiel :

123		504
215		610

Vorname : _____

Datum : _____

Zahlen und Mengen : von 0 bis 999

3  15

1 Ergänze mit $<$, $>$ oder $=$:

312 $300 + 20 + 1$

356 $300 + 50 + 6$

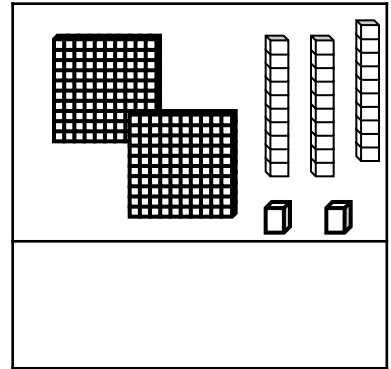
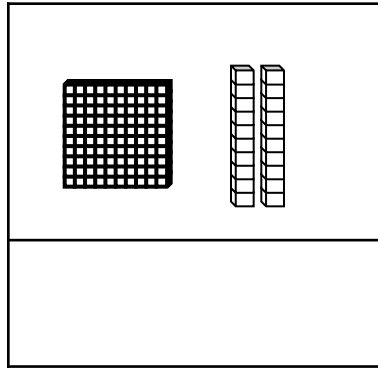
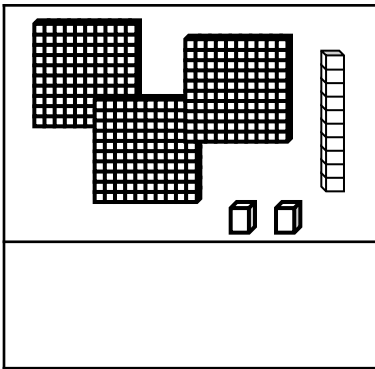
650 $600 + 80 + 8$

521 $500 + 20$

520 $500 + 2$

420 $200 + 200$


2 Zähle und ergänze :



3 Ordne die Zahlen von der größten bis zur kleinsten Zahl :

605 - 215 - 660 - 102 - 952 - 259 - 99

4 Finde die Regel und ergänze :



Vorname : _____

Datum : _____

Zahlen und Mengen : von 0 bis 999

3  15

1 Ergänze mit <, > oder =:

320 dreihundertzwei

510 fünfhundertzehn


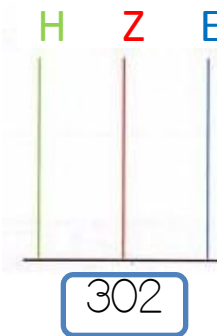
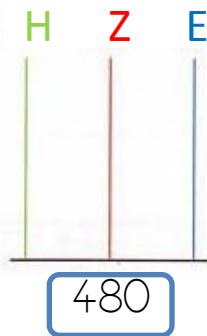
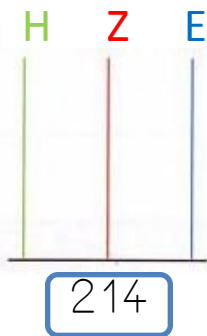
180 hundertacht

830 achthundertdrei

510 fünfhundert

116 hundertsechzig


2 Zeichne die Perlen :



3 Ergänze :

827	$800 + 20 + 7$	$8 \text{ H} + 2 \text{ Z} + 7 \text{ E}$
206		
418		
392		
777		

4 Finde die Regel und ergänze :



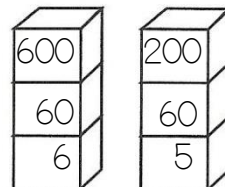
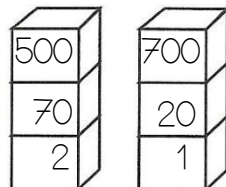
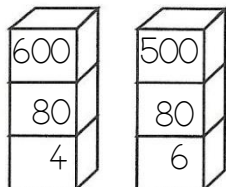
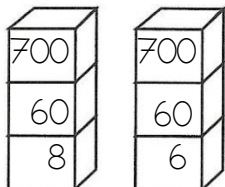
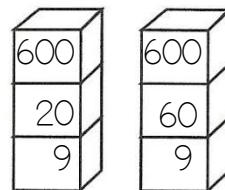
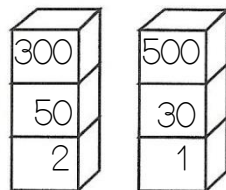
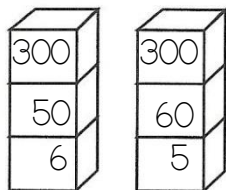
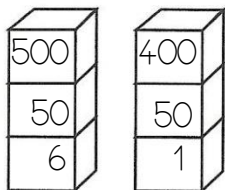
Vorname : _____

Datum: _____


Zahlen und Mengen : von 0 bis 999



1 Male immer den Turm an, der die kleinste Zahl zeigt :



2 Ich brauche 240 €. Kreise die Scheine und Münzen ein :



Um 240€ zu haben, brauche ich :

- ... 100€ Scheine
- ... 10€ Scheine
- ... 1€ Münzen

3 Verbinde jede Zahl mit der richtigen Stelle auf dem Zahlenstrahl :

459

472

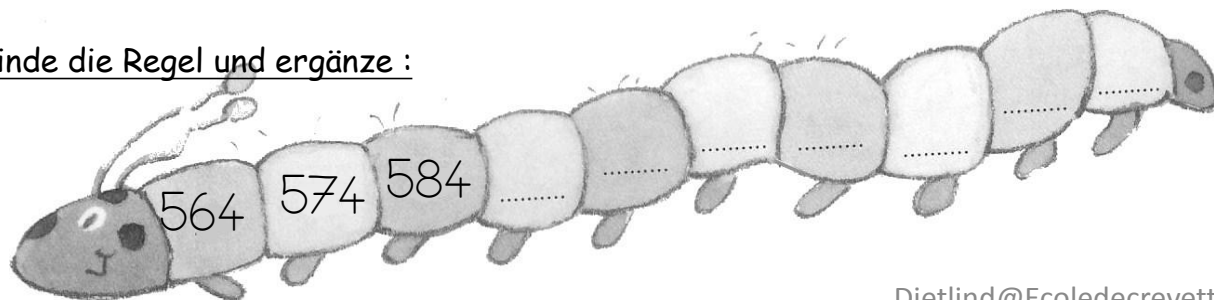
481

479

487



4 Finde die Regel und ergänze :



Vorname : _____

Datum : _____


Zahlen und Mengen : von 0 bis 999



1 Ergänze jede Spalte :

402	625	586	775	897	222
403	626	587	776	898	223

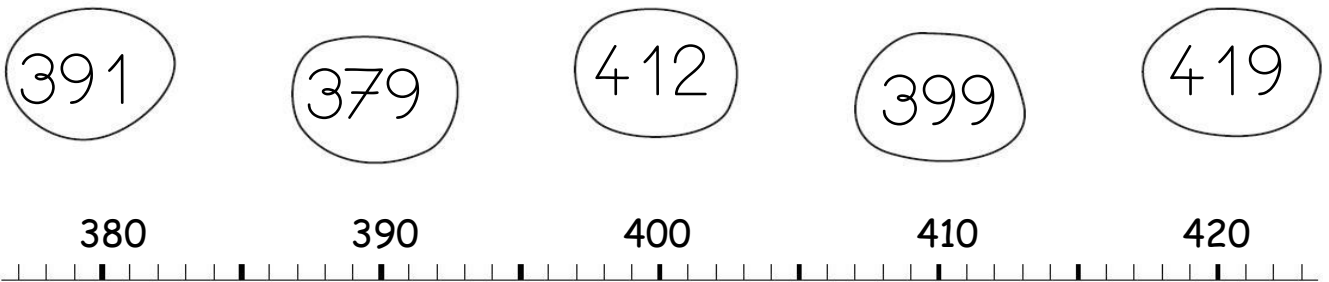
2 Ich brauche 333 €. Kreise die Scheine und Münzen ein :



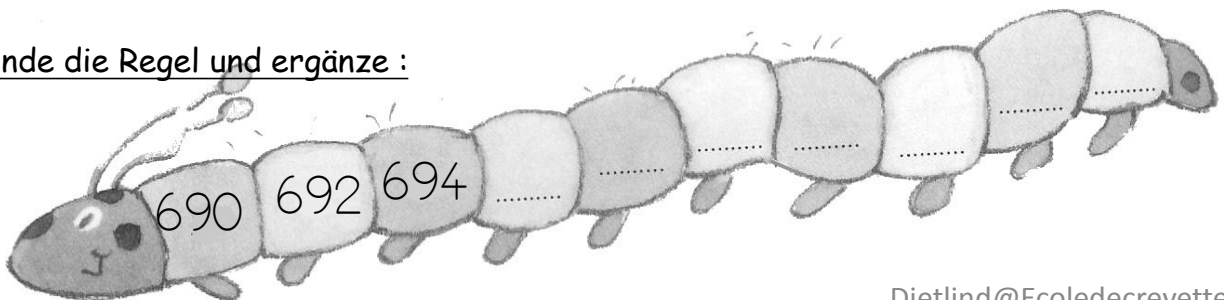
Um 333€ zu haben, brauche ich :

- ... 100€ Scheine
- ... 10€ Scheine
- ... 1€ Münzen

3 Verbinde jede Zahl mit der richtigen Stelle auf dem Zahlenstrahl :



4 Finde die Regel und ergänze :



Vorname : _____

Datum : _____

Zahlen und Mengen : von 0 bis 999



1 Schreibe in Ziffern :

zweihundertsechsfünfzig :

dreihundertzehn :

hundertsechundsiebzig :

fünfhundertdreizehn :

sechshundertachtzig :


sechshundertneununddreißig :

neunhundertfünfzehn :

achthundertzweundneunzig :

2 Ich brauche 309 €. Kreise die Scheine und Münzen ein :

Um 309€ zu haben, brauche ich :



... 100€ Scheine
... 10€ Scheine
... 1€ Münzen

3 Schreibe die Zahlen an den richtigen Platz auf die Säckchen (Paß auf, da ist eine Falle) :

730 - 525 - 890 - 580 - 830 - 915 - 680 - 630 - 775

