

Ich zähle n°9

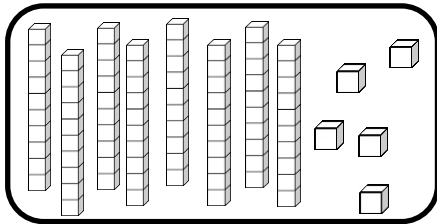
Zahlen von 0 bis 90

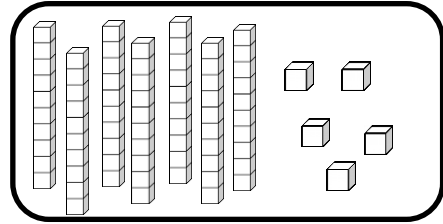


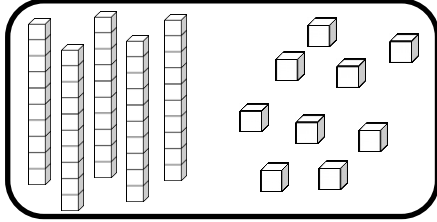
Zahlen und Mengen : von 0 bis 90

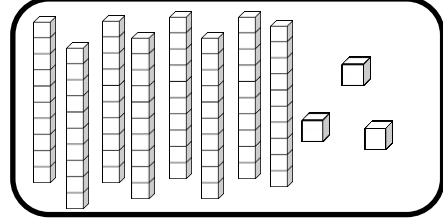


1 Zähle und ergänze :

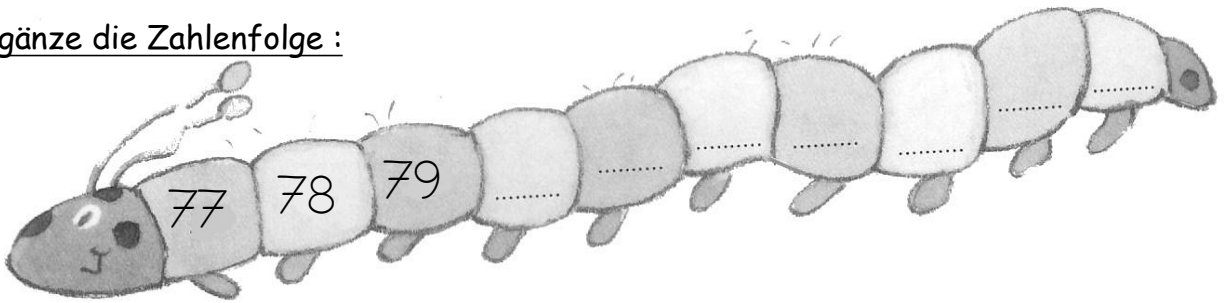








2 Ergänze die Zahlenfolge :





Zahlen und Mengen : von 0 bis 90

1 Ergänze die Tabelle :

	41								
						56			
		62							
70					75				
									89

2 Färben Sie die Münzen und Banknoten entsprechend der Summe im Sparschwein:



Zahlen und Mengen : von 0 bis 90



1 Verbinde jede Zahl mit der richtigen Stelle auf dem Zahlenstrahl

48

68

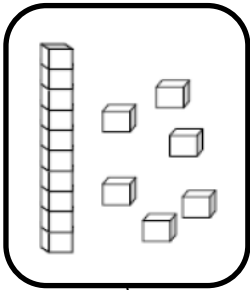
64

89


86




2 Zeichne




16



86



77

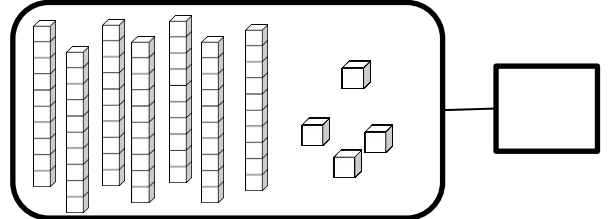
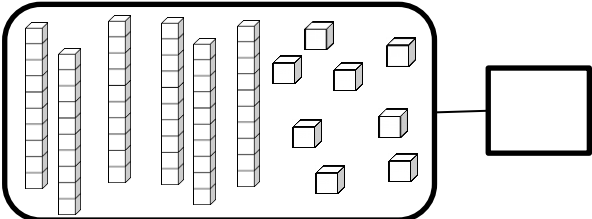
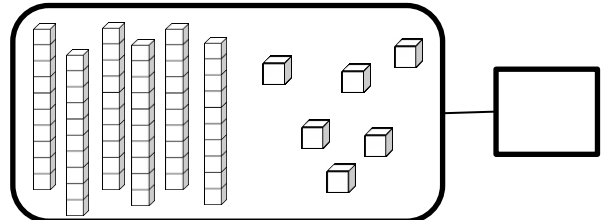
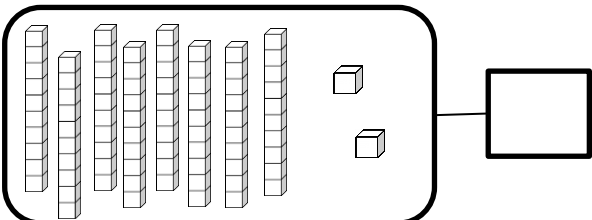


81


Zahlen und Mengen : von 0 bis 90



1 Ergänze :



2 Ergänze die Zahlenfolge



Zahlen und Mengen : von 0 bis 90



und

vier

neun

zwei


achtzig

sechzig

1 Schreibe die Zahlen in Buchstaben. Schau die Etiketten an.


89	
64	
82	


2 Ergänze die Zahlenfolge



Zahlen und Mengen : von 0 bis 90

1 Macht Zehnerpakete und ergänze





Zahlen und Mengen : von 0 bis 90

und



vier

neun

fünf

achtzig

sechzig

1 Schreibe die Zahlen in Buchstaben. Schau die Etiketten an.

85	
69	
84	

2 Ordne die Zahlen nach der Kleinste und beginne mit der größten Zahl :

69 - 79 - 65 - 34 - 45 - 59




□ □ □ □ □ □

Zahlen und Mengen : von 0 bis 90

1 Ergänze die Tabelle

	41								
						56			
		62							
70					75				
									89

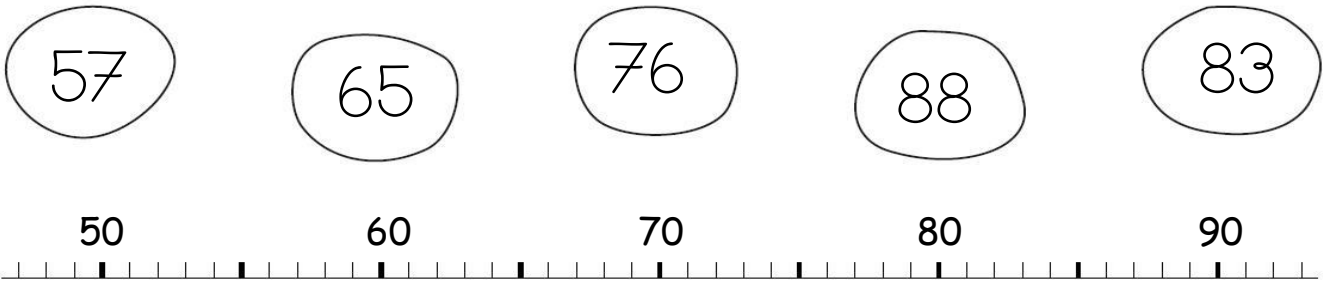
2 Wie viel Geld hat Arthur in seinem Sparschwein?



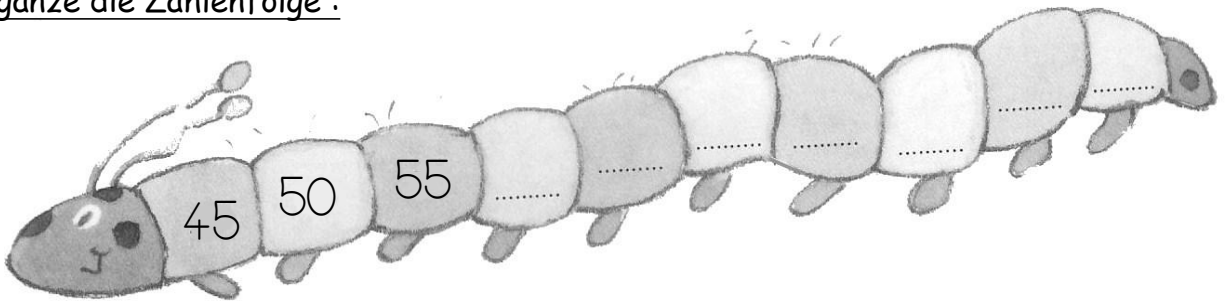
Zahlen und Mengen : von 0 bis 90



1 Verbinde jede Zahl mit der richtigen Stelle auf dem Zahlenstrahl



2 Ergänze die Zahlenfolge :



Zahlen und Mengen : von 0 bis 90

1 Schreibe die Zahlen in Buchstaben. Schau die Etiketten an

89	
27	
83	

- und
- sieben
- drei
- neun
- zwanzig
- achtzig

2 Ordne die Zahlen nach der Größe und beginne mit der kleinsten Zahl!

51 - 63 - 57 - 73 - 37 - 77


□ □ □ □ □ □

Zahlen und Mengen : von 0 bis 90

1 Der Frosch muss nicht immer vorwärts. Male seinen Weg an. Wo kommt der Frosch an? Kreise das Kästchen ein



52	-1		+10		-1		+10	
----	----	--	-----	--	----	--	-----	--

40	41	42	43	44	45	46	47	48	49
50	51		53	54	55	56	57	58	59
60	61	62	63	64	65	66	67	68	69
70	71	72	73	74	75	76	77	78	79
80	81	82	83	84	85	86	87	88	89

Zahlen und Mengen : von 0 bis 90

1 Ergänze



$44 = 40 + 4$

$83 = _ + _$

$72 = _ + _$

$78 = _ + _$

$81 = _ + _$


$67 = _ + _$

$57 = _ + _$

$65 = _ + _$



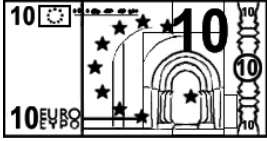

$84 = _ + _$

2 Ergänze die Zahlenfolge :

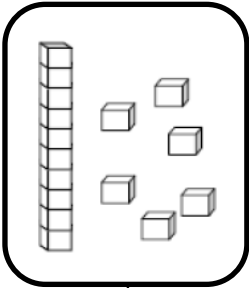


Zahlen und Mengen : von 0 bis 90


1 Färben Sie die Münzen und Banknoten entsprechend der Summe im Sparschwein:




2 Zeichne




16



82



76



87

Zahlen und Mengen : von 0 bis 90



1 Male was gleich ist in derselben Farbe an

83

$80+5$

$80+3$

dreiundachtzig

siebenundachtzig

$20+20+20+20+7$

85

$20+20+20+20+5$

81

$20+20+20+20+3$

89

fünfundachtzig

$20+20+20+20+9$

neunundachtzig

$80+1$

$80+9$

$80+7$

$20+20+20+20+1$


87

einundachtzig

Zahlen und Mengen : von 0 bis 90



1 Ergänze die Zahlenfolge :



2 Finde den Vorgänger und den Nachfolger

<input type="text"/>	89	<input type="text"/>
<input type="text"/>	82	<input type="text"/>
<input type="text"/>	89	<input type="text"/>


<input type="text"/>	60	<input type="text"/>
<input type="text"/>	84	<input type="text"/>
<input type="text"/>	77	<input type="text"/>

Zahlen und Mengen : von 0 bis 90

1 Der Frosch muss immer rückwärts. Male seinen Weg an. Wo kommt der Frosch an? Kreise das Kästchen ein.



77	-10		-1		-1		-10	
----	-----	--	----	--	----	--	-----	--

40	41	42	43	44	45	46	47	48	49
50	51	52	53	54	55	56	57	58	59
60	61	62	63	64	65	66	67	68	69
70	71	72	73	74	75	76		78	79
80	81	82	83	84	85	86	87	88	89

Zahlen und Mengen : von 0 bis 90



1 Male was gleich ist in derselben Farbe an

84	$20+20+20+20+8$	vierundachtzig
$80+9$	achtundachtzig	86
$80+8$	$20+20+20+20+4$	$80+6$
zweiundachtzig	$20+20+20+20+9$	$80+4$
sechsendachtzig	$20+20+20+20+6$	$80+2$
$20+20+20+20+2$		
88	neunundachtzig	82
		89

Zahlen und Mengen : von 0 bis 90



1 Ordne die Zahlen nach der Größe und beginne mit der kleinsten Zahl :

72 - 83 - 71 - 85 - 88 - 68

□ □ □ □ □ □

2 Wie viel Geld hat Arthur in seinem Sparschwein?

Zahlen und Mengen : von 0 bis 90

3  15

1 Ergänze mit $<$, $>$ oder $=$

82 37

82 62

66 86

60 70

80 85

85 19

2 Ordne die Zahlen nach der Kleinste und beginne mit der größten Zahl

34 - 75 - 56 - 52 - 42 - 84

Zahlen und Mengen : von 0 bis 90



1 Finde den Vorgänger und den Nachfolger

— 88 —

— 60 —

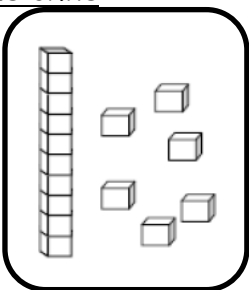
— 81 —

— 73 —

— 55 —

— 89 —

2 Zeichne



16

85

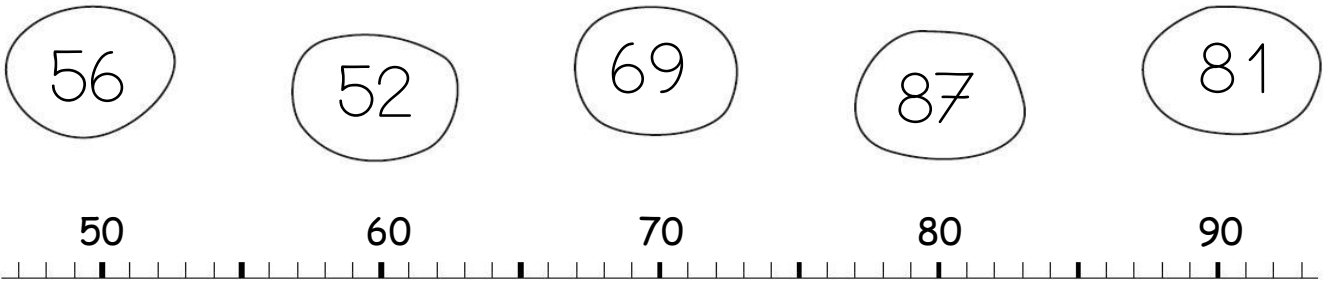
57

68

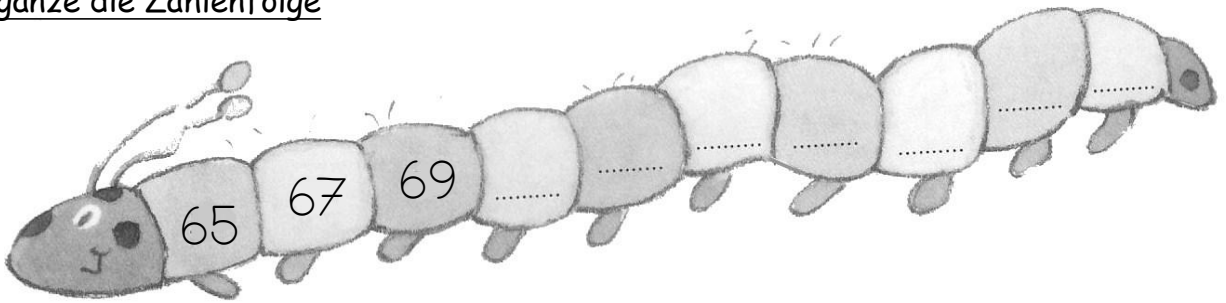
Zahlen und Mengen : von 0 bis 90



1 Verbinde jede Zahl mit der richtigen Stelle auf dem Zahlenstrahl



2 Ergänze die Zahlenfolge



Zahlen und Mengen : von 0 bis 90



1 Ergänze mit <, > oder =

81 $80 + 8$

$80 + 3$ 79

86 $10 + 8$

$80 + 9$ 75

87 $80 + 5$

$80 + 7$ 87

2 Ordne die Zahlen nach der Größe und beginne mit der kleinsten Zahl :

72 - 82 - 68 - 47 - 87 - 62

□ □ □ □ □ □