

Ich zähle n°8

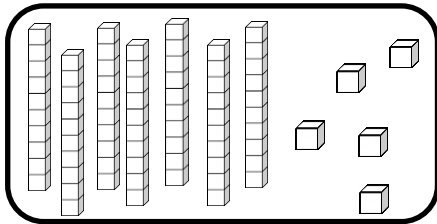
Zahlen von 0 bis 80

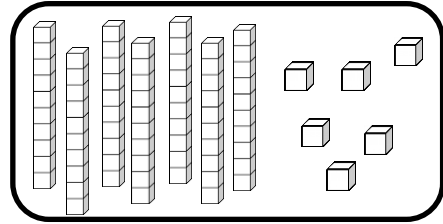


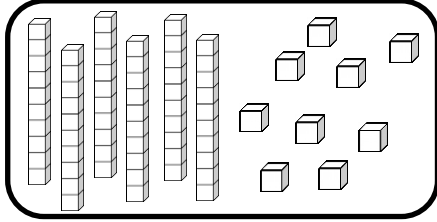
Zahlen und Mengen : von 0 bis 80

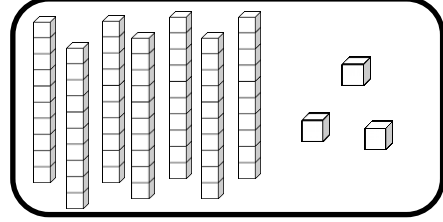


1 Zähle und ergänze :

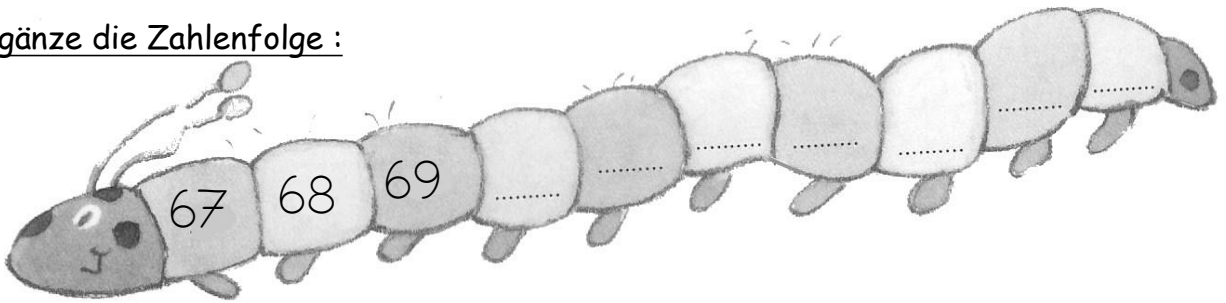








2 Ergänze die Zahlenfolge :




Zahlen und Mengen : von 0 bis 80

1 Ergänze die Tabelle :

	31								
						46			
		52							
60					65				
									79

2 Wie viel Geld hat Arthur in seinem Sparschwein?



Zahlen und Mengen : von 0 bis 80



1 Verbinde jede Zahl mit der richtigen Stelle auf dem Zahlenstrahl

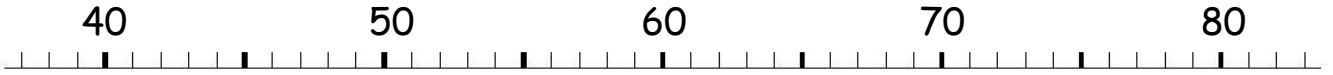
38

58

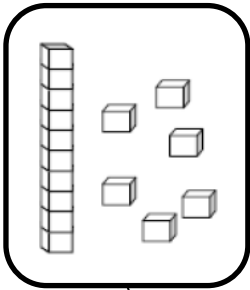
54

79


76




2 Zeichne




16



76



67

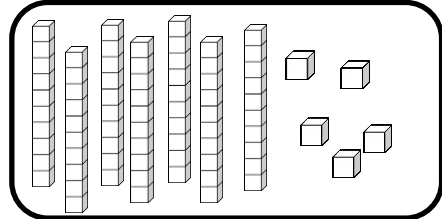
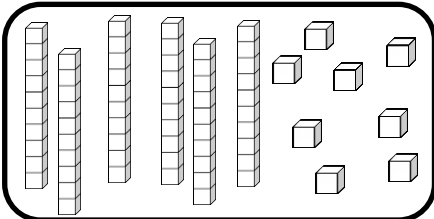
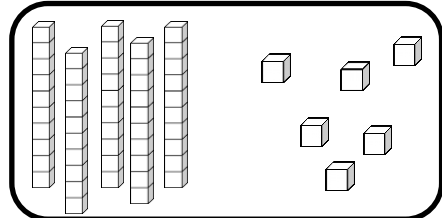
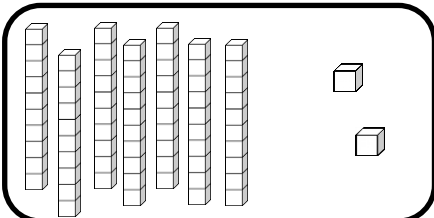


71


Zahlen und Mengen : von 0 bis 80



1 Ergänze :



2 Ergänze die Zahlenfolge



Zahlen und Mengen : von 0 bis 80

und



1 Schreibe die Zahlen in Buchstaben. Schau die Etiketten an.

79	
68	
72	

acht


neun

zwei

siebzig

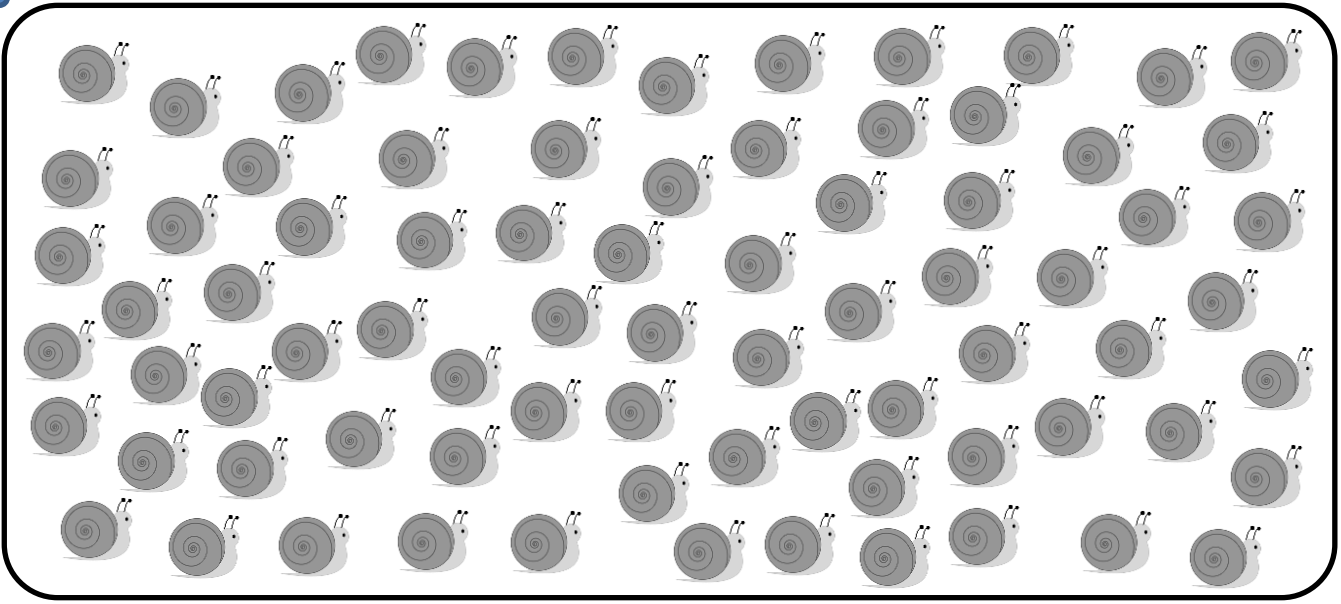
sechzig


2 Ergänze die Zahlenfolge



Zahlen und Mengen : von 0 bis 80

1 Macht Zehnerpakete und ergänze





Zahlen und Mengen : von 0 bis 80

und



seiben

neun

fünf

sechzig

siebzig

1 Schreibe die Zahlen in Buchstaben. Schau die Etiketten an.

75	
69	
77	

2 Ordne die Zahlen nach der Größe und beginne mit der größten Zahl :

69 - 79 - 65 - 34 - 45 - 59


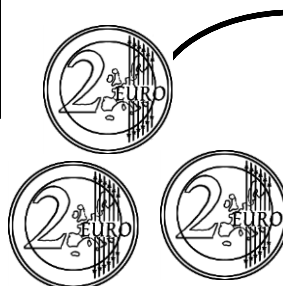

□ □ □ □ □ □

Zahlen und Mengen : von 0 bis 80

1 Ergänze die Tabelle

	31								
					46				
		52							
60					65				
									79

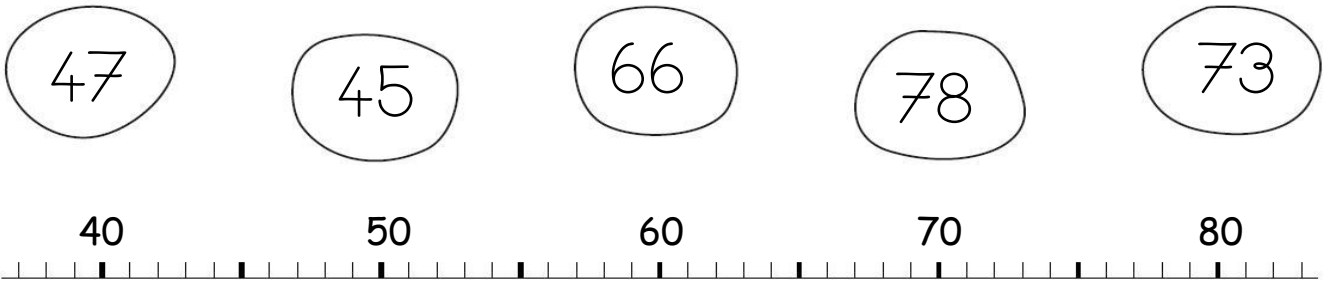
2 Wie viel Geld hat Arthur in seinem Sparschwein?



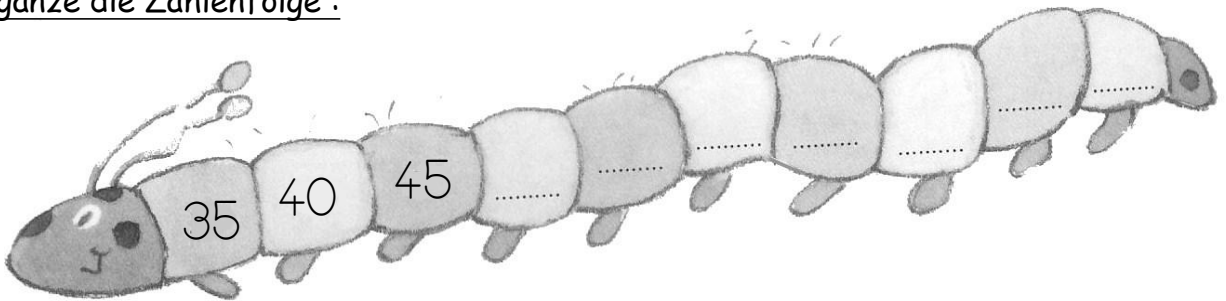
Zahlen und Mengen : von 0 bis 80



1 Verbinde jede Zahl mit der richtigen Stelle auf dem Zahlenstrahl



2 Ergänze die Zahlenfolge :



Zahlen und Mengen : von 0 bis 80

1 Schreibe die Zahlen in Buchstaben. Schau die Etiketten an

74	
17	
73	

und

- sieben
- zehn
- siebzig
- vier
- drei

2 Ordne die Zahlen nach der Größe und beginne mit der kleinsten Zahl :

51 - 63 - 57 - 73 - 37 - 77


□ □ □ □ □ □

Zahlen und Mengen : von 0 bis 80

1 Der Frosch muss nicht immer vorwärts. Male seinen Weg an. Wo kommt der Frosch an?
Kreise das Kästchen ein



42	-1		+10		-1		+10	
----	----	--	-----	--	----	--	-----	--

30	31	32	33	34	35	36	37	38	39
40	41		43	44	45	46	47	48	49
50	51	52	53	54	55	56	57	58	59
60	61	62	63	64	65	66	67	68	69
70	71	72	73	74	75	76	77	78	79

Zahlen und Mengen : von 0 bis 80

1 Ergänze



$34 = 30 + 4$

$73 = _ + _$

$62 = _ + _$

$68 = _ + _$

$71 = _ + _$


$57 = _ + _$

$47 = _ + _$

$55 = _ + _$

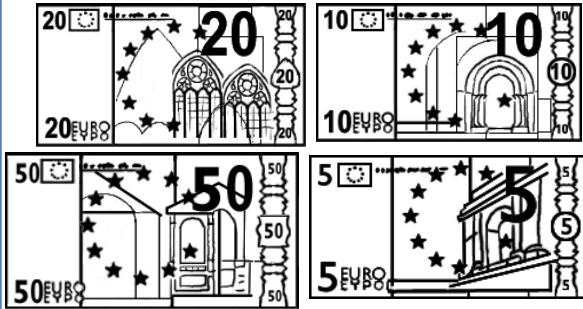
$74 = _ + _$

2 Ergänze die Zahlenfolge :

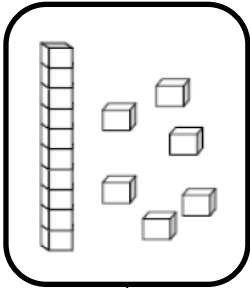


Zahlen und Mengen : von 0 bis 80


1 Färben Sie die Münzen und Banknoten entsprechend der Summe im Sparschwein:




2 Zeichne




16



72



66



77

Zahlen und Mengen : von 0 bis 80



1 Male was gleich ist in derselben Farbe an

73

$70+5$

$70+3$

dreiunesiebzig

siebenundsiebzig

$60+17$

75

$60+15$

79

$60+13$

fünfunnesiebzig

$70+9$

$60+19$

77

$70+1$

71

$70+7$

$60+11$


neunundsiebzig

einundsiebzig

Zahlen und Mengen : von 0 bis 80



1 Ergänze die Zahlenfolge :



2 Finde den Vorgänger und den Nachfolger

<input type="text"/>	79	<input type="text"/>
<input type="text"/>	72	<input type="text"/>
<input type="text"/>	69	<input type="text"/>


<input type="text"/>	50	<input type="text"/>
<input type="text"/>	74	<input type="text"/>
<input type="text"/>	77	<input type="text"/>

Zahlen und Mengen : von 0 bis 80

1 Der Frosch muss immer rückwärts. Male seinen Weg an. Wo kommt der Frosch an? Kreise das Kästchen ein.



67	-10		-1		-1		-10	
----	-----	--	----	--	----	--	-----	--

30	31	32	33	34	35	36	37	38	39
40	41	42	43	44	45	46	47	48	49
50	51	52	53	54	55	56	57	58	59
60	61	62	63	64	65	66		68	69
70	71	72	73	74	75	76	77	78	79

Zahlen und Mengen : von 0 bis 80



1 Male was gleich ist in derselben Farbe an

74

$60+18$

$70+6$

vierundsiebzig

$70+9$

achtundsiebzig

$70+8$

$70+4$

zweiundsiebzig

76

$60+14$

$60+19$

sechundsiebzig

$60+12$

79

$70+2$

78

neunundsiebzig

$60+16$

72

Zahlen und Mengen : von 0 bis 80






1 Ordne die Zahlen nach der Größe und beginne mit der kleinsten Zahl :

62 - 73 - 61 - 75 - 78 - 68

□ □ □ □ □ □

2 Wie viel Geld hat Arthur in seinem Sparschwein?



Zahlen und Mengen : von 0 bis 80

3



15

1 Ergänze mit $<$, $>$ oder $=$

72

.....

27

72

.....

52

56

.....

76

50

.....

60

70

.....

75

75

.....

19

2 Ordne die Zahlen nach der Kleinste und beginne mit der größten Zahl

24 - 35 - 46 - 42 - 32 - 64

Zahlen und Mengen : von 0 bis 80

1 Finde den Vorgänger und den Nachfolger



78

50

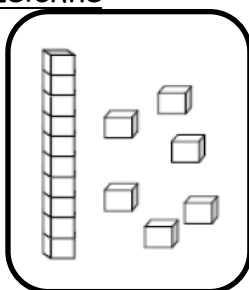
71

63

45

79

2 Zeichne



16

75

47

58

