

Ich zähle n°7

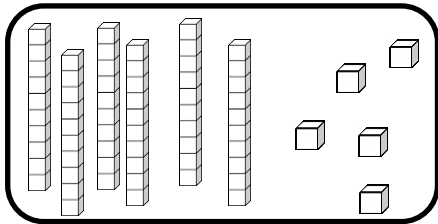
Zahlen von 0 bis 70

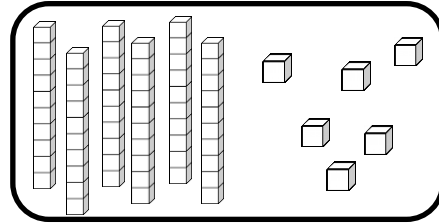


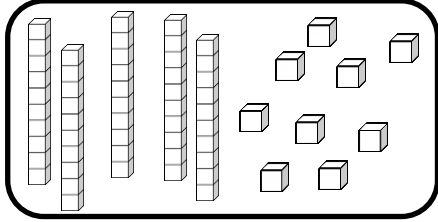
# Zahlen und Mengen : von 0 bis 70

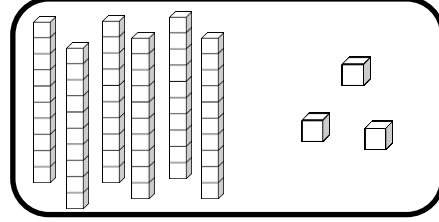


1 Ergänze :

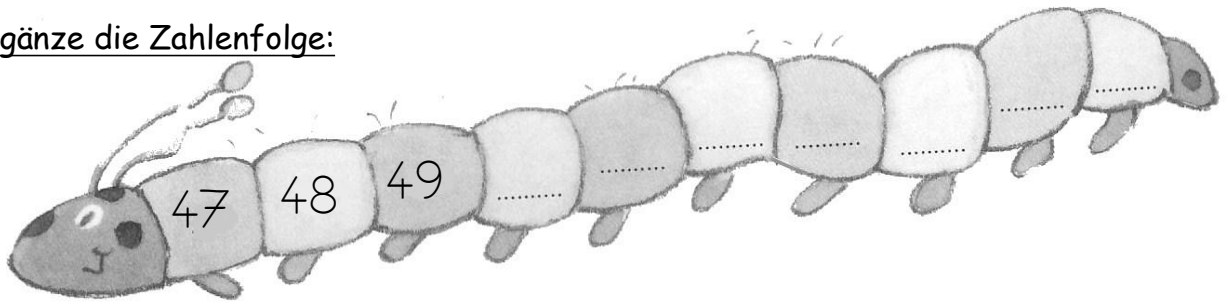









2 Ergänze die Zahlenfolge:




# Zahlen und Mengen : von 0 bis 70

1 Ergänze die Tabelle

	21								
						36			
		42							
50					55				
									69

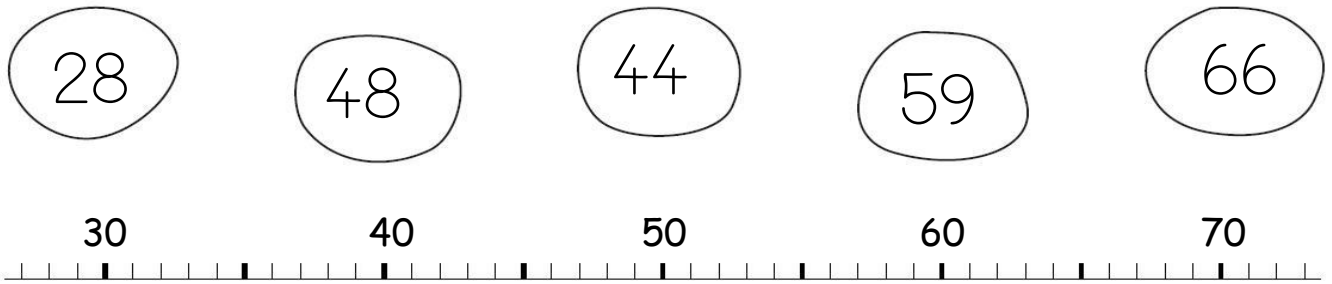
2 Wie viel Geld hat Arthur in seinem Sparschwein?



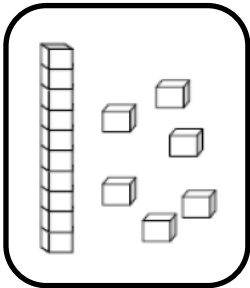
# Zahlen und Mengen : von 0 bis 70




1 Verbinde jede Zahl mit der richtigen Stelle auf dem Zahlenstrahl




2 Zeichne




16



66



57

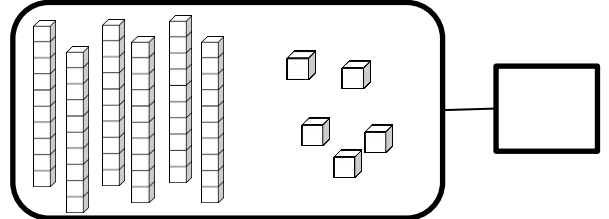
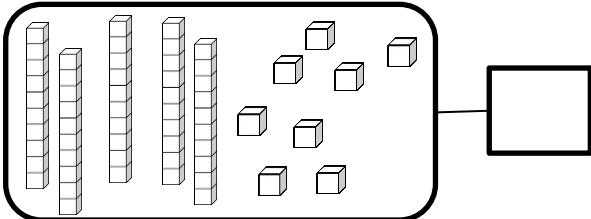
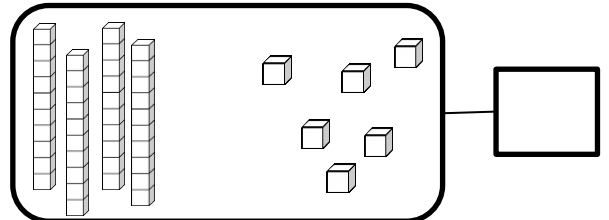
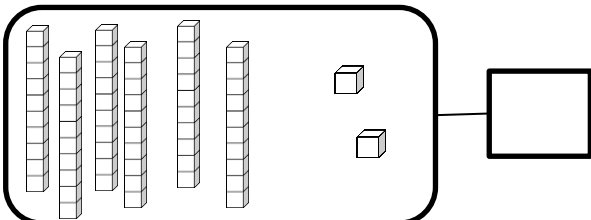


61


# Zahlen und Mengen : von 0 bis 70



1 Ergänze :



2 Ergänze die Zahlenfolge:



# Zahlen und Mengen : von 0 bis 70




1 Schreibe die Zahlen in Buchstaben. Schau die Etiketten an.

und

66	
58	
62	

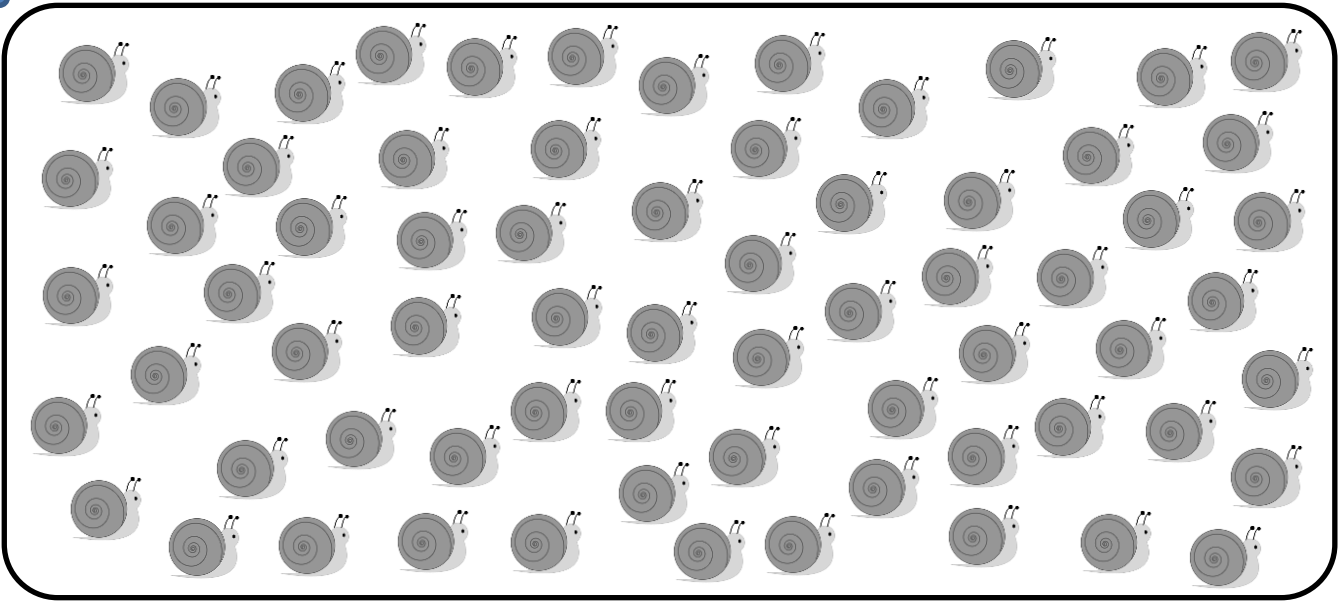
- zwei
- sechs
- acht
- fünfzig
- sechzig


2 Ergänze



# Zahlen und Mengen : von 0 bis 70

1 Mach Zehnerpakete und ergänze





# Zahlen und Mengen : von 0 bis 70

und



1 Schreibe die Zahlen in Buchstaben. Schau die Etiketten an

65	
59	
63	

drei

fünf

neun

fünfzig

sechszig

2 Ordne die Zahlen nach der Größe und beginne mit der größten Zahl

59 - 69 - 55 - 24 - 35 - 49



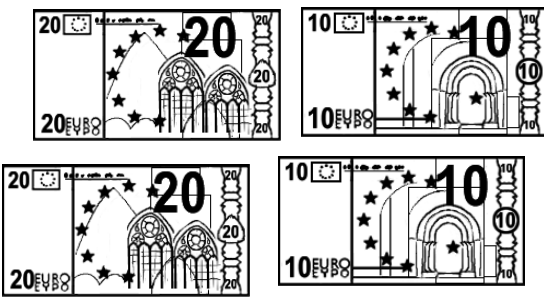
□ □ □ □ □ □

# Zahlen und Mengen : von 0 bis 70

1 Ergänze die Tabelle

	21								
						36			
		42							
50					55				
									69

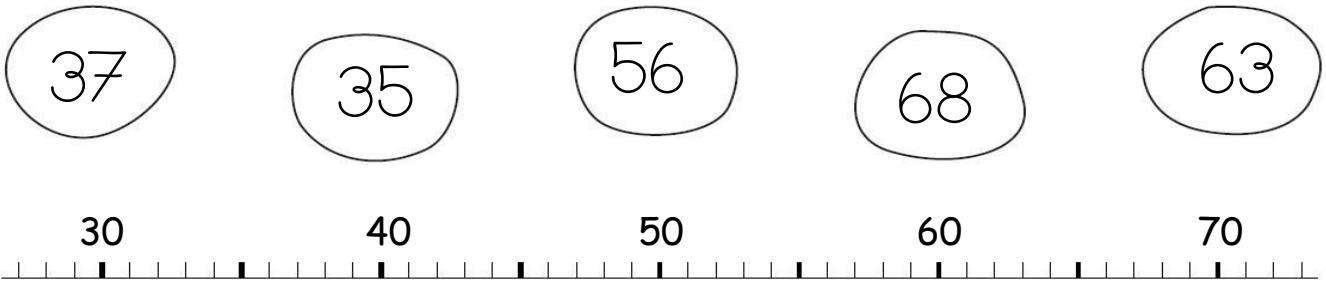
2 Wie viel Geld hat Arthur in seinem Sparschwein?




# Zahlen und Mengen : von 0 bis 70



1 Verbinde jede Zahl mit der richtigen Stelle auf dem Zahlenstrahl



2 Ergänze die Zahlenfolge



# Zahlen und Mengen : von 0 bis 70

1 Schreibe die Zahlen in Buchstaben. Schau die Etiketten an.

62	
27	
69	

- und
- zwei
- acht
- neun
- zwanzig
- sechzig

2 Ordne die Zahlen nach der Größe und beginne mit der kleinsten Zahl :

41 - 26 - 47 - 63 - 20 - 50

□ □ □ □ □ □

## Zahlen und Mengen : von 0 bis 70

Der Frosch muss nicht immer vorwärts. Male seinen Weg an. Wo kommt der Frosch an?

1 Kreise das Kästchen ein.



32	+1		+10		-1		+10	
----	----	--	-----	--	----	--	-----	--

20	21	22	23	24	25	26	27	28	29
30	31		33	34	35	36	37	38	39
40	41	42	43	44	45	46	47	48	49
50	51	52	53	54	55	56	57	58	59
60	61	62	63	64	65	66	67	68	69

## Zahlen und Mengen : von 0 bis 70

1 Ergänze :



$34 = 30 + 4$

$63 = \_ + \_$

$52 = \_ + \_$

$58 = \_ + \_$

$61 = \_ + \_$


$47 = \_ + \_$

$37 = \_ + \_$

$45 = \_ + \_$

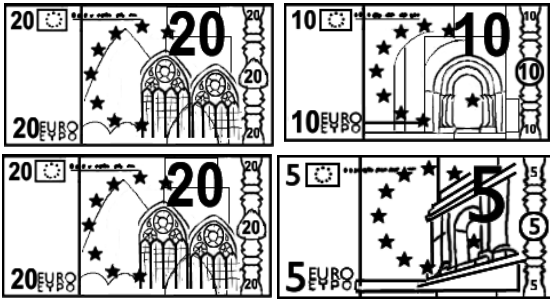
$64 = \_ + \_$

2 Ergänze die Zahlenfolge

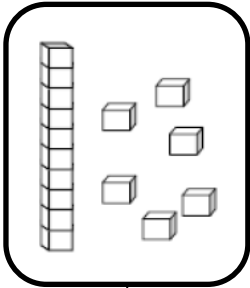


# Zahlen und Mengen : von 0 bis 70


1 Wie viel Geld hat Arthur in seinem Sparschwein?




2 Zeichne




16



62



56



67

# Zahlen und Mengen : von 0 bis 70



1 Male was gleich ist in derselben Farbe an

63

dreiundsechzig

siebenundsechzig

$60+7$

65

$60+5$

69

$60+3$

$60+9$

fünfundsechzig

61

67

$60+1$

neunundsechzig


einundsechzig



# Zahlen und Mengen : von 0 bis 70



1 Ergänze die Zahlenfolge



2 Finde den Vorgänger und den Nachfolger

<input type="text"/>	69	<input type="text"/>
<input type="text"/>	62	<input type="text"/>
<input type="text"/>	59	<input type="text"/>


<input type="text"/>	40	<input type="text"/>
<input type="text"/>	64	<input type="text"/>
<input type="text"/>	67	<input type="text"/>

# Zahlen und Mengen : von 0 bis 70

1 Der Frosch muss immer vorwärts. Male seinen Weg an. Wo kommt der Frosch an? Kreise das Kästchen ein.



57	-10		-1		-1		-10	
----	-----	--	----	--	----	--	-----	--

20	21	22	23	24	25	26	27	28	29
30	31	32	33	34	35	36	37	38	39
40	41	42	43	44	45	46	47	48	49
50	51	52	53	54	55	56		58	59
60	61	62	63	64	65	66	67	68	69

# Zahlen und Mengen : von 0 bis 70



1 Male was gleich ist in derselben Farbe an

64

achtundsechzi  
g

vierundsechzig

zweiundsechzig

$60+8$

66

sechsendsechzi  
g

$60+4$

$60+9$

$60+2$

69

68

neunundesechzi  
g

$60+6$

62

# Zahlen und Mengen : von 0 bis 70




1 Ordne die Zahlen nach der Größe und beginne mit der kleinsten Zahl :

52 - 63 - 51 - 65 - 68 - 58

□ □ □ □ □ □

2 Wie viel Geld hat Arthur in seinem Sparschwein?



# Zahlen und Mengen : von 0 bis 70

3  15

1 Ergänze mit  $<$ ,  $>$  oder  $=$

62 ..... 26

62 ..... 42

46 ..... 66

40 ..... 50

60 ..... 65

65 ..... 9

2 Ordne die Zahlen nach der Größe und beginne mit der kleinsten Zahl

14 - 25 - 36 - 41 - 52 - 63

# Zahlen und Mengen : von 0 bis 70



1 Finde den Vorgänger und den Nachfolger

— 68 —

— 60 —

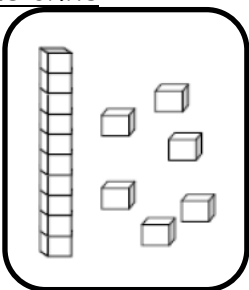
— 61 —

— 53 —

— 35 —

— 69 —

2 Zeichne



16

65

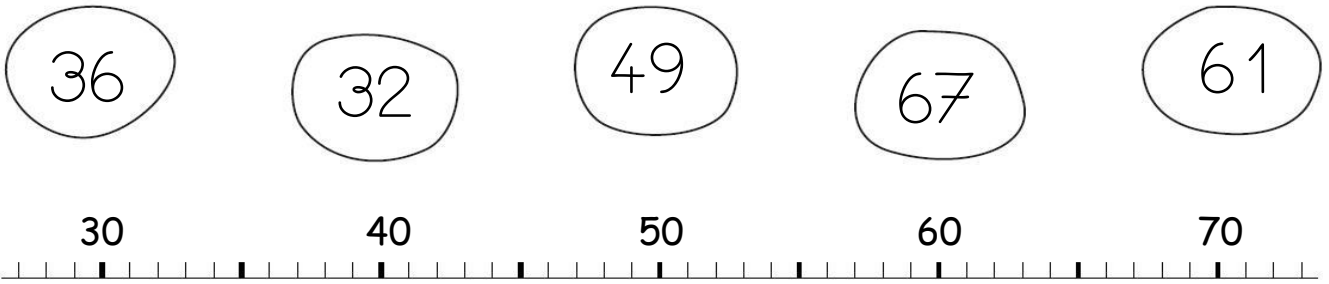
37

48

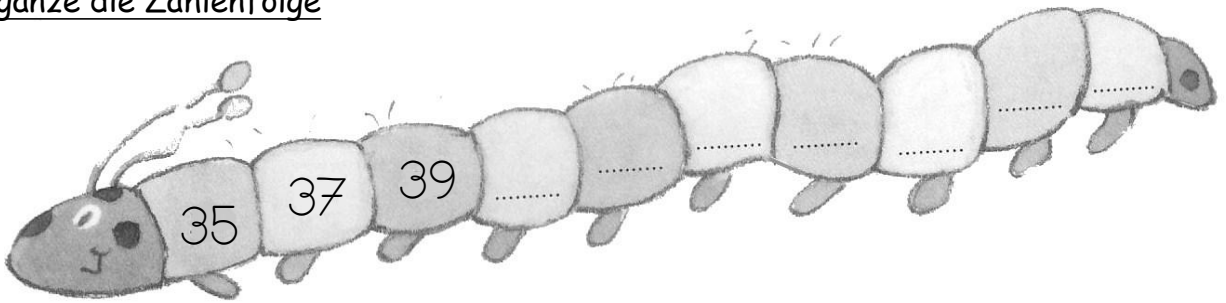
# Zahlen und Mengen : von 0 bis 70



1 Verbinde jede Zahl mit der richtigen Stelle auf dem Zahlenstrahl



2 Ergänze die Zahlenfolge



# Zahlen und Mengen : von 0 bis 70



1 Ergänze mit  $<$ ,  $>$  oder  $=$

61 .....  $60 + 8$

$60 + 3$  ..... 59

66 .....  $50 + 8$

$50 + 9$  ..... 65

67 .....  $60 + 5$

$60 + 7$  ..... 66

2 Ordne die Zahlen nach der Größe und beginne mit der kleinsten Zahl!

52 - 12 - 68 - 47 - 45 - 62

□ □ □ □ □ □