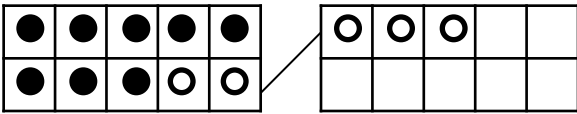
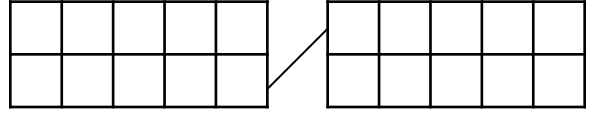


CALCULS : Additions dont la somme est supérieure à 10

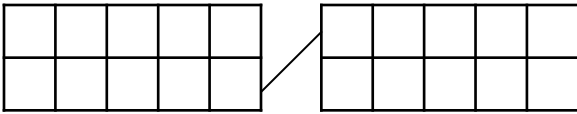
1 Aide-toi des boîtes pour calculer :



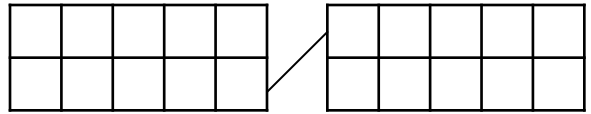
$8 + 5 =$



$6 + 7 =$



$9 + 4 =$



$7 + 5 =$

2 Colorie les égalités justes et barre celles qui sont fausses :

$6 + 5 = 11$

$6 + 7 = 12$

$7 + 4 = 11$

$7 + 4 = 12$

$9 + 5 = 14$

$8 + 6 = 15$

$3 + 8 = 10$

$6 + 5 = 10$

$9 + 5 = 13$

$8 + 6 = 14$

$6 + 7 = 13$

$3 + 8 = 11$

Problème :

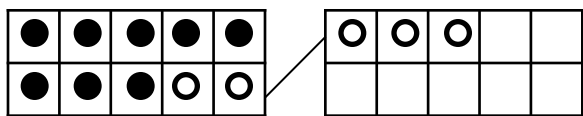
Mamy est allée au marché aujourd'hui.
Elle a acheté 9 belles poires et 6 pommes jaunes.
Combien a-t-elle acheté de fruits?

dessin ou calcul :

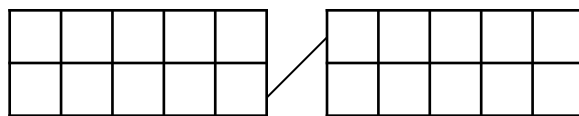
phrase réponse :

CALCULS : Additions dont la somme est supérieure à 10

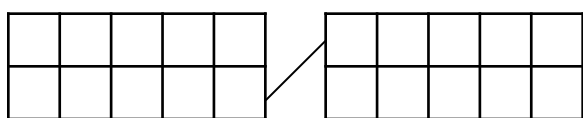
1 Aide-toi des boîtes pour calculer :



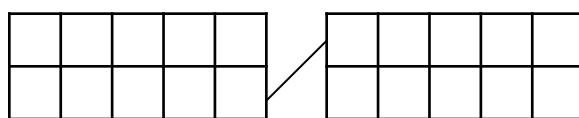
$8 + 5 =$



$8 + 7 =$



$9 + 6 =$



$4 + 8 =$

2 Colorie de la même couleur les calculs et leur résultat :

$5 + 5$

12

$9 + 3$

dix + deux

$4 + 6$

huit + quatre

$8 + 2$

$6 + 6$

10

$3 + 7$

$8 + 4$

$10 + 2$

quatre + six

$5 + 7$

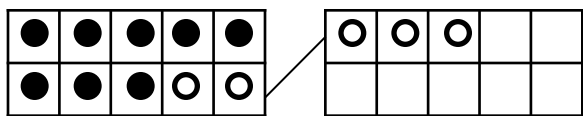
Problème :

Nicolas a cueilli 8 tulipes et 7 jonquilles pour sa fiancée.
Combien a-t-il cueilli de fleurs ?

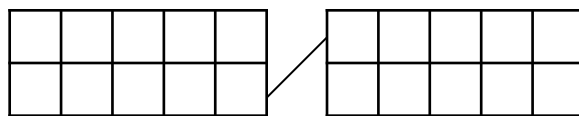
dessin ou calcul :phrase réponse :

CALCULS : Additions dont la somme est supérieure à 10

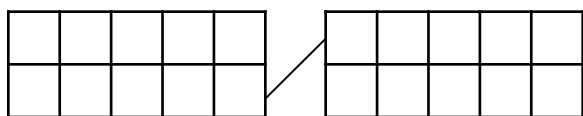
1 Aide-toi des boîtes pour calculer :



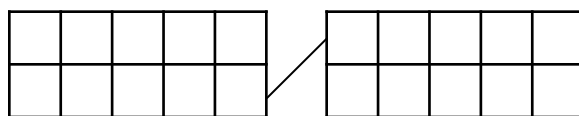
$8 + 5 =$



$9 + 3 =$



$5 + 7 =$



$6 + 8 =$

2 Relie les calculs à leur résultat :

$11 + 1$

$5 + 8$

$11 + 2$

$7 + 6$

$8 + 3$

11

12

13

$9 + 3$

$8 + 4$

$6 + 5$

$7 + 5$

$8 + 5$

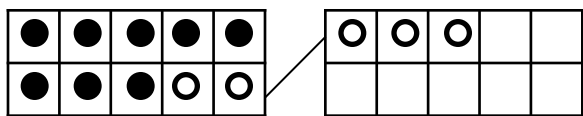
Problème :

Aujourd'hui, le garagiste a réparé 6 motos et 7 voitures.
Combien a-t-il réparé de véhicules?

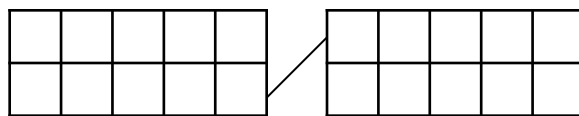
dessin ou calcul :phrase réponse :

CALCULS : Additions dont la somme est supérieure à 10

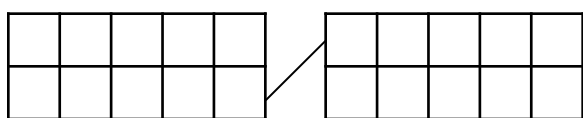
1 Aide-toi des boîtes pour calculer :



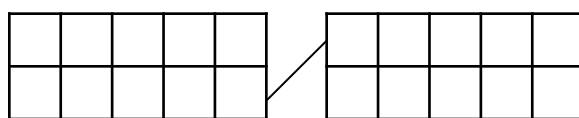
$8 + 5 =$



$11 + 6 =$



$12 + 6 =$



$12 + 3 =$

2 Relie les calculs à leur résultat :

$11 + 4$

$6 + 8$

$11 + 5$

$7 + 8$

$11 + 3$

14

15

16

$9 + 7$

$12 + 3$

$5 + 9$

$7 + 7$

$9 + 6$

Problème :

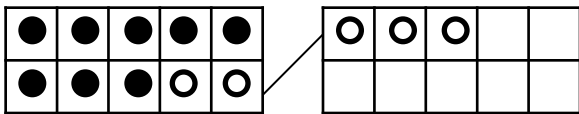
Manon a fait de jolis dessins pour ses camarades de classe.
Elle en a fait 7 avec des princesses et 9 avec des chevaux.
Combien a-t-elle fait de dessins?

dessin ou calcul :phrase réponse :

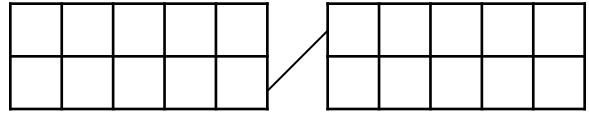
CALCULS : Additions dont la somme est supérieure à 10



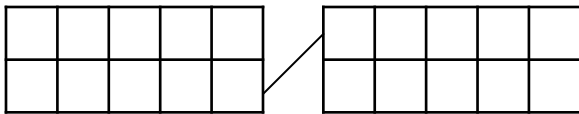
1 Aide-toi des boîtes pour calculer :



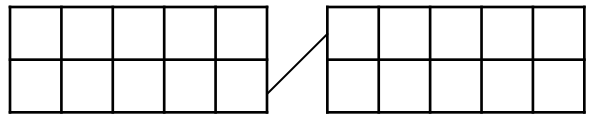
$8 + 5 =$



$11 + 7 =$



$12 + 4 =$



$13 + 5 =$

2 Colorie le chemin du 15 :



10+5	7+8	11+7	14+5	14+1	8+3
16+3	9+6	6+3	4+8	12+5	9+2
10+1	11+4	12+6	6+7	16+5	14+5
2+13	5+10	4+6	7+3	9+1	14+1
4+11	12+6	14+3	4+8	4+11	7+8
6+9	4+3	6+4	6+3	13+2	4+7
1+14	8+7	9+3	14+8	9+6	8+6
10+4	9+8	3+12	12+3	10+5	14+6



Problème :

Noémie a fait un collier avec 9 perles rouges et 5 bleues.
Combien a-t-elle utilisé de perles?

dessin ou calcul :

phrase réponse :
