

Mon fichier  
de numération n°10

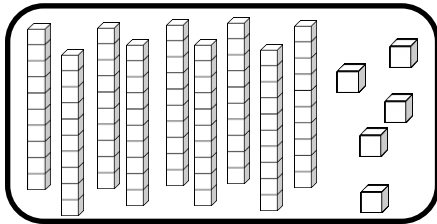
Les nombres  
de 0 à 100

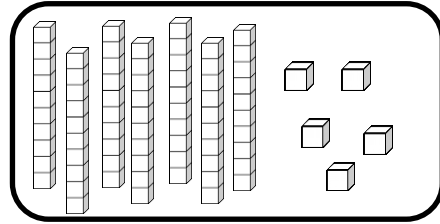


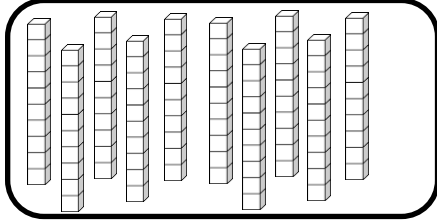
# Nombres et quantités : de 0 à 100

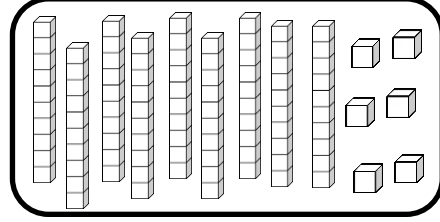


1 Complète avec le bon nombre :

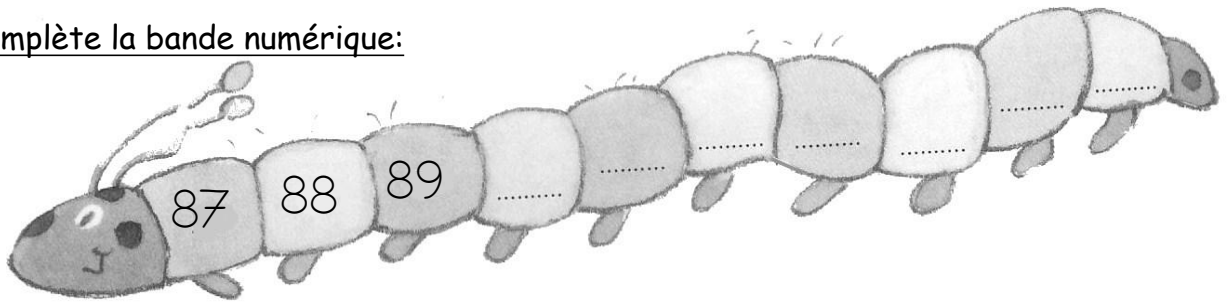









2 Complète la bande numérique:




# Nombres et quantités : de 0 à 100

1 Complète les cases grises du tableau des nombres

	51								
						66			
		72							
80					85				
									99

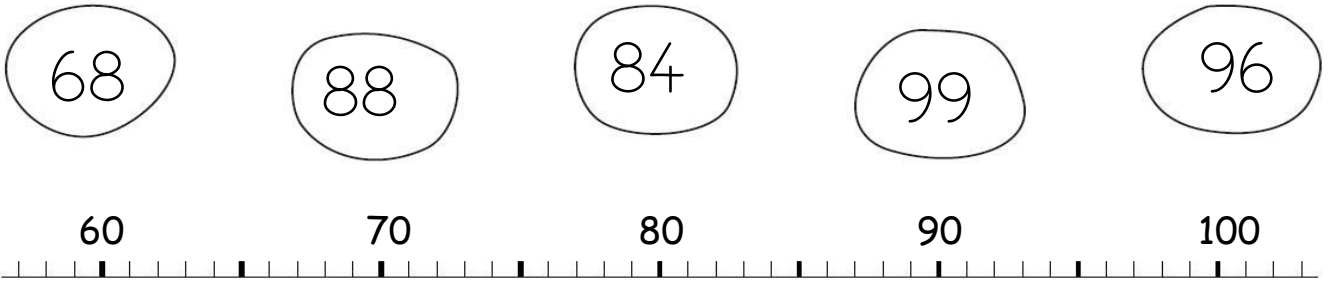
2 Colorie les pièces et billets correspondants à la somme dans la tirelire :



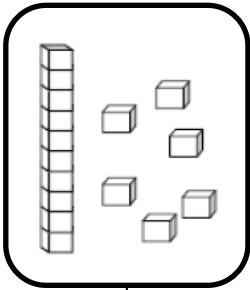
# Nombres et quantités : de 0 à 100




1 Relie les nombres à leur place sur la droite graduée




2 Dessine le nombre en barres




16



96



87

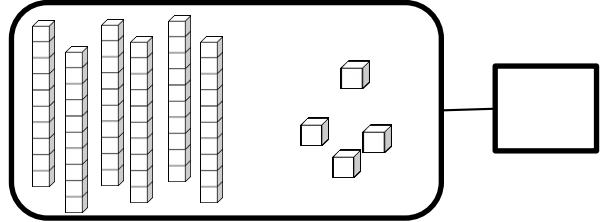
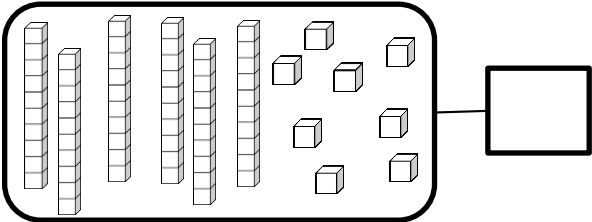
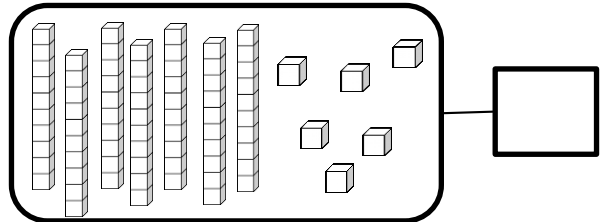
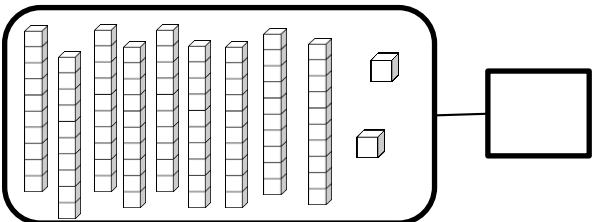


91


# Nombres et quantités : de 0 à 100



1 Complète avec le bon nombre :



2 Complète la bande numérique:



# Nombres et quantités: de 0 à 100




1 Aide-toi des étiquettes pour écrire les nombres

89	
94	
92	


- quatre
- neuf
- douze
- vingt
- quatorze

2 Complète



# Nombres et quantités: de 0 à 100

1 Compte en faisant des paquets de 10




# Nombres et quantités: de 0 à 100



1 Aide-toi des étiquettes pour écrire les nombres

95	
15	
94	

- quatre
- vingt
- quinze
- vingt
- quatorze

2 Ecris les nombres dans l'ordre décroissant, du plus grand au plus petit:

79 - 89 - 75 - 44 - 54 - 79

□ □ □ □ □ □

# Nombres et quantités : de 0 à 100

1 Complète le tableau des nombres

	51								
						66			
80					85				
									99

2 Trouve combien Arthur a d'argent dans sa tirelire :

20 Euro banknote, 50 Euro banknote, 20 Euro banknote, 2 Euro coin, 2 Euro coin, piggy bank, Arthur (boy)




## Nombres et quantités: de 0 à 90

1 Calcule puis vérifie en faisant avancer la grenouille.



62	-1		+10		-1		+10	
----	----	--	-----	--	----	--	-----	--

50	51	52	53	54	55	56	57	58	59
60	61		63	64	65	66	67	68	69
70	71	72	73	74	75	76	77	78	79
80	81	82	83	84	85	86	87	88	89
90	91	92	93	94	95	96	97	98	99

## Nombres et quantités: de 0 à 100

1 Complète



$$44 = 40 + 4$$

$$93 = \_ + \_$$

$$72 = \_ + \_$$

$$88 = \_ + \_$$

$$91 = \_ + \_$$


$$87 = \_ + \_$$

$$67 = \_ + \_$$

$$75 = \_ + \_$$


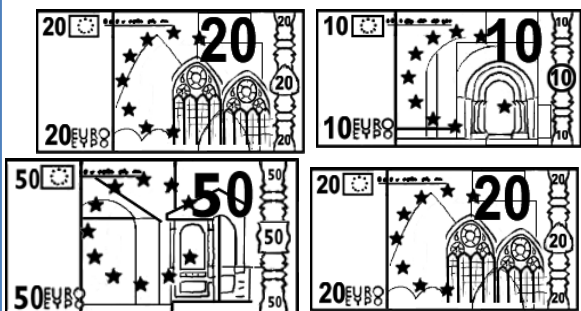
$$94 = \_ + \_$$

2 Complète

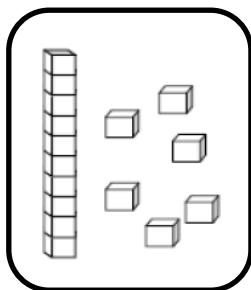


# Nombres et quantités: de 0 à 100


1 Colorie les pièces et billets correspondants à la somme dans la tirelire :




2 Dessine le nombre en barres




16



92



76



97

# Nombres et quantités : de 0 à 90



1 Colorie de la même couleur ce qui est identique:

93

$90+5$

$90+3$

quatre-vingt-treize

quatre-vingt-dix-sept

$80+17$

95

$80+15$

91

$80+13$

99

quatre-vingt-quinze

$80+19$

quatre-vingt-dix-neuf

$90+1$

$90+9$

$90+7$

$80+11$

97


quatre-vingt-onze



# Nombres et quantités: de 0 à 100



1 Complète



2 Trouve le nombre qui vient avant et celui qui vient après

<input type="text"/>	99	<input type="text"/>
<input type="text"/>	92	<input type="text"/>
<input type="text"/>	89	<input type="text"/>

<input type="text"/>	70	<input type="text"/>
<input type="text"/>	94	<input type="text"/>
<input type="text"/>	87	<input type="text"/>

# Nombres et quantités : de 0 à 90

1 Calcule puis vérifie en faisant avancer la grenouille.



87	-10		-1		-1		-10	
----	-----	--	----	--	----	--	-----	--

50	51	52	53	54	55	56	57	58	59
60	61	62	63	64	65	66	67	68	69
70	71	72	73	74	75	76	77	78	79
80	81	82	83	84	85	86		88	89
90	91	92	93	94	95	96	97	98	99

# Nombres et quantités : de 0 à 100



1 Colorie de la même couleur ce qui est identique:

80+18	quatre-vingt-quatorze		
94	quatre-vingt-dix-huit	96	90+6
90+9	90+8	80+14	90+4
quatre-vingt-douze	80+19	90+2	
quatre-vingt-seize	80+16		
80+12			
98	quatre-vingt-dix-neuf	92	99

# Nombres et quantités: de 0 à 100



1 Ecris les nombres dans l'ordre croissant, du plus petit au plus grand:

92 - 89 - 71 - 85 - 98 - 68

□ □ □ □ □ □

2 Trouve combien Arthur a d'argent dans sa tirelire :

20 Euro banknote, 5 Euro banknote, 50 Euro banknote, 2 Euro coin, 2 Euro coin, piggy bank, Arthur

# Nombres et quantités : de 0 à 100

3



15

1 Complète avec  $<$ ,  $>$  ou  $=$ :

82

.....

37

92

.....

62

96

.....

86

60

.....

10

90

.....

89

95

.....

19

2 Ecris les nombres dans l'ordre croissant, du plus grand au plus petit :

34 - 75 - 96 - 92 - 42 - 84

# Nombres et quantités: de 0 à 100



1 Trouve le nombre qui vient avant et celui qui vient après

98

80

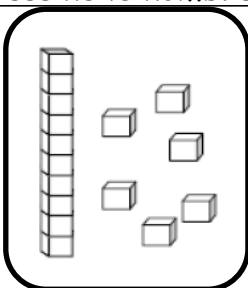
91

93

55

89

2 Dessine le nombre en barres



16

95

67

78

# Nombres et quantités : de 0 à 100



1 Relie les nombres à leur place sur la droite graduée

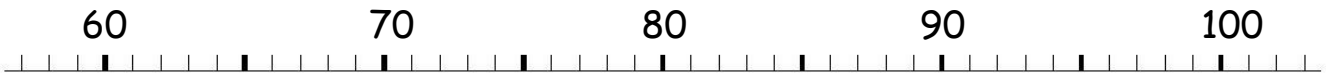
66

62


79

97

91



2 Complète



# Nombres et quantités : de 0 à 100

3  15

1 Complète avec  $<$ ,  $>$  ou  $=$ :

91 .....  $90 + 8$

$90 + 3$  ..... 79

96 .....  $10 + 8$

$90 + 9$  ..... 75

97 .....  $80 + 5$

$90 + 7$  ..... 97

2 Ecris les nombres dans l'ordre croissant, du plus petit au plus grand:

72 - 82 - 98 - 47 - 87 - 92

□ □ □ □ □ □