

Combien y a-t-il dans le porte-monnaie ?



1 €

2 €

3 €

Combien y a-t-il dans le porte-monnaie ?



5 €

6 €

2 €

Combien y a-t-il dans le porte-monnaie ?



1 €

5 €

10 €

Combien y a-t-il dans le porte-monnaie ?



7 €

6 €

12 €

Combien y a-t-il dans le porte-monnaie ?



3 €

4 €

8 €

Combien y a-t-il dans le porte-monnaie ?



3 €

6 €

9 €

Combien y a-t-il dans le porte-monnaie ?

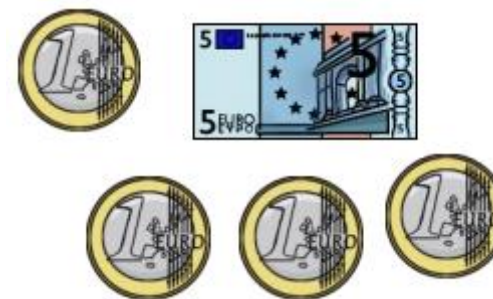


3 €

5 €

7 €

Combien y a-t-il dans le porte-monnaie ?



9 €

10 €

11 €

Combien y a-t-il dans le porte-monnaie ?

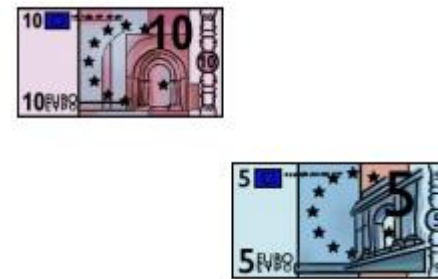


12 €

13 €

14 €

Combien y a-t-il dans le porte-monnaie ?

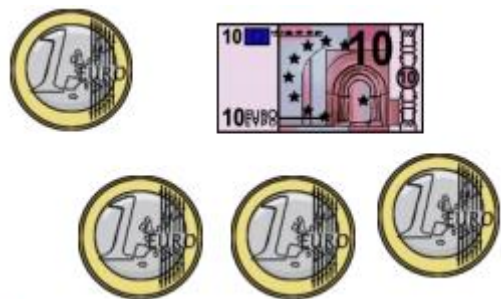


15 €

20 €

25 €

Combien y a-t-il dans le porte-monnaie ?



10 €

14 €

15 €

Combien y a-t-il dans le porte-monnaie ?



14 €

16 €

18 €

Combien y a-t-il dans le porte-monnaie ?



23 €

24 €

25 €

Combien y a-t-il dans le porte-monnaie ?

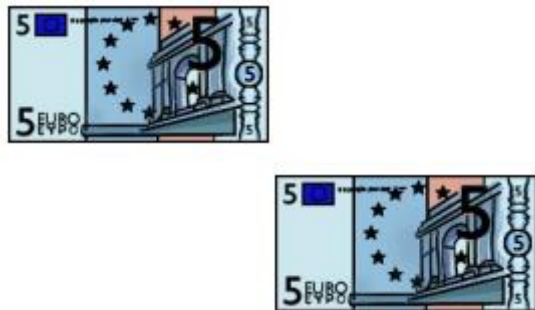


20 €

22 €

23 €

Combien y a-t-il dans le porte-monnaie ?




2 €

5 €

10 €

Combien y a-t-il dans le porte-monnaie ?

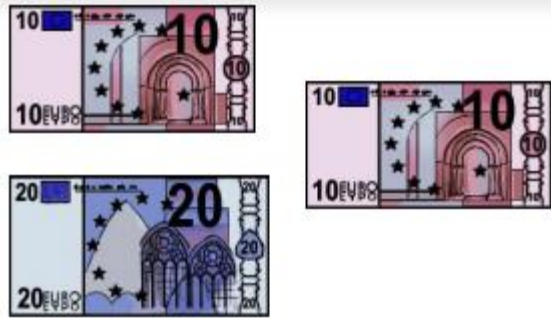


20 €

25 €

26 €

Combien y a-t-il dans le porte-monnaie ?



40 €

50 €

60 €

Combien y a-t-il dans le porte-monnaie ?

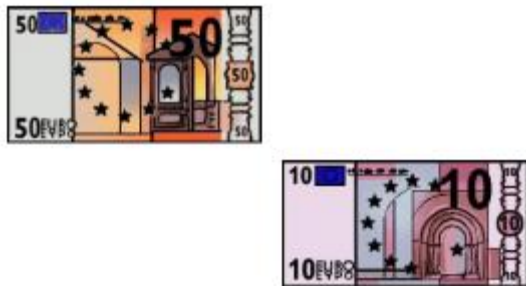


25 €

28 €

30 €

Combien y a-t-il dans le porte-monnaie ?

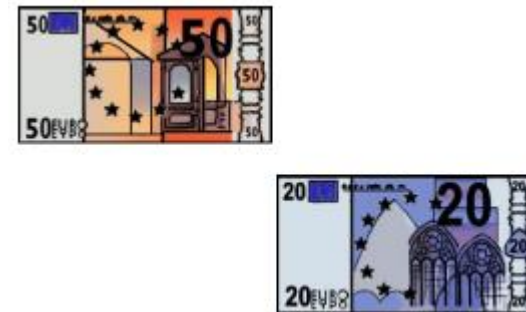


15 €

51 €

60 €

Combien y a-t-il dans le porte-monnaie ?




25 €

52 €

70 €

Combien y a-t-il dans le porte-monnaie ?

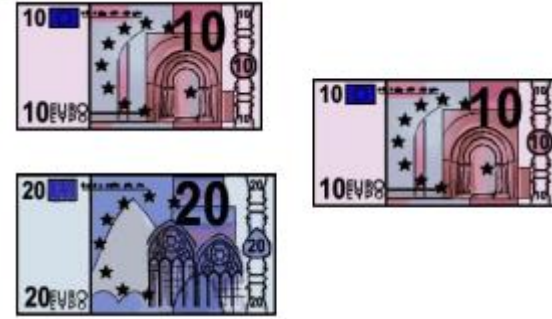


40 €

60 €

80 €

Combien y a-t-il dans le porte-monnaie ?




3 €

30 €

40 €

Combien y a-t-il dans le porte-monnaie ?




60 €

80 €

100 €

Combien y a-t-il dans le porte-monnaie ?

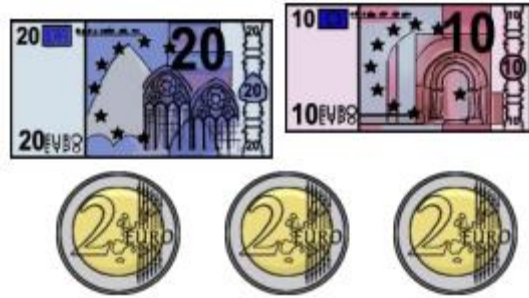


31 €

34 €

36 €

Combien y a-t-il dans le porte-monnaie ?

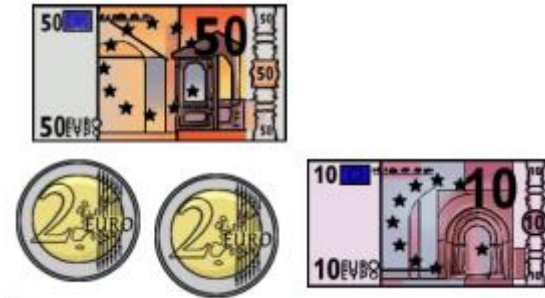


36 €

38 €

40 €

Combien y a-t-il dans le porte-monnaie ?




60 €

64 €

70 €

Combien y a-t-il dans le porte-monnaie ?




50 €

60 €

62 €

Combien y a-t-il dans le porte-monnaie ?

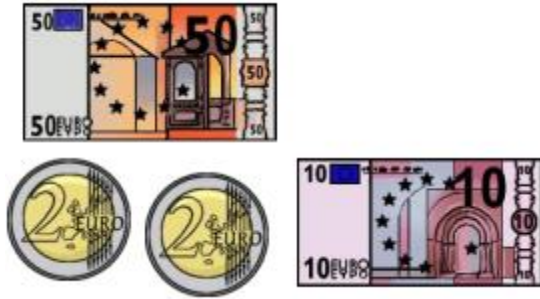


66 €

76 €

86 €

Combien y a-t-il dans le porte-monnaie ?

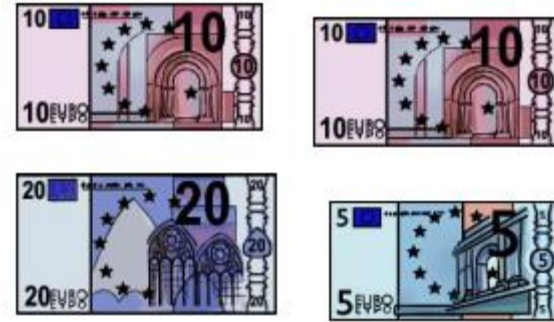


64 €

74 €

84 €

Combien y a-t-il dans le porte-monnaie ?

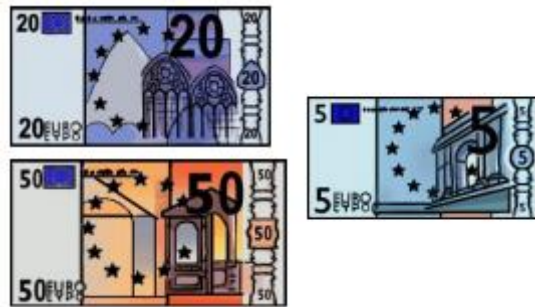


45 €

50 €

55 €

Combien y a-t-il dans le porte-monnaie ?

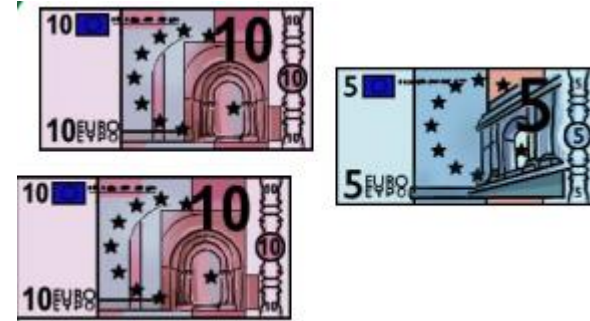


70 €

75 €

80 €

Combien y a-t-il dans le porte-monnaie ?



15 €

20 €

25 €